

令和5年度

帝塚山学院泉ヶ丘高等学校

入学者選抜試験問題

高校入試

社会

(試験時間 50分)

受験番号	
------	--

1 次の文は、香織さんと侑介さんが日本や世界をとりまく情勢について話している様子である。これをもとに、あとの問いに答えよ。

香織：「最近、日本国内の物価が上昇して、生活が苦しくなっている人が増えているんですって。」

侑介：「僕も家族旅行で(a)北海道に行ったんだけど、(b)大好きなラーメンの価格が150円も値上げしていたよ。びっくり！以前は150円あれば大盛りを食べられたのに！」

香織：「どうしてこんなにラーメンの価格があがったのかな？」

侑介：「それは、急激に進んだ円安や(c)した影響だと思うよ。」

香織：「それに、(d)石油の価格もすごく高くなっていて、その影響もあるよね。」

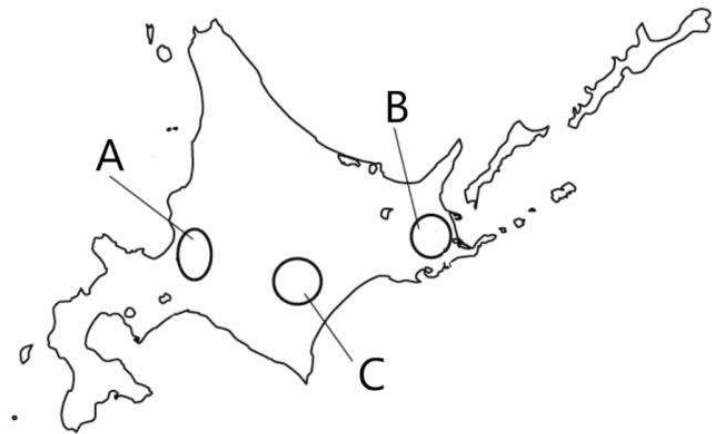
侑介：「(e)エネルギー資源の少ない日本にとって、石油などのエネルギー価格の上昇は深刻な問題だね。」

香織：「もちろん新型コロナの感染拡大による経済活動の停滞や(f)ロシアのウクライナ侵攻による世界情勢の影響もあるよね。」

侑介：「エネルギーだけでなく、(g)食料の大部分を輸入にたよっている日本にとって、この影響は相当大きいね。当分大盛りはガマンかな(涙)。」

問1 下線部(a)について、以下の問いに答えよ。

- ① 北海道は大規模農業がさかんである。右の地図中のA～Cは、北海道の代表的な米作地・畑作地・酪農地のいずれかを示したものである。それぞれのさかんな場所の組み合わせとして正しいものを、次のア～カから1つ選び、解答欄の記号を○で囲め。

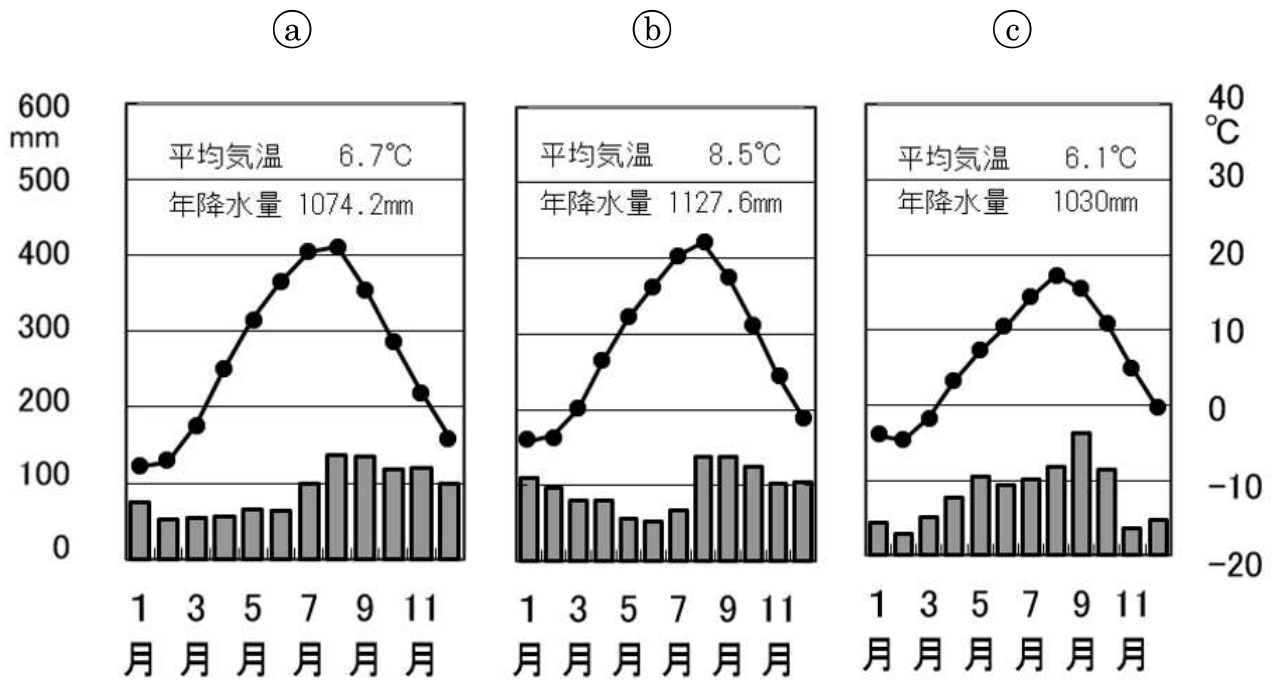


	ア	イ	ウ	エ	オ	カ
米作	A	C	B	A	B	C
畑作	B	A	C	C	A	B
酪農	C	B	A	B	C	A

② 北海道とほぼ同緯度に位置する都市として誤っているものを、次のア～エから1つ選び、解答欄の記号を○で囲め。

ア：ロンドン イ：マルセイユ ウ：ミラノ エ：シカゴ

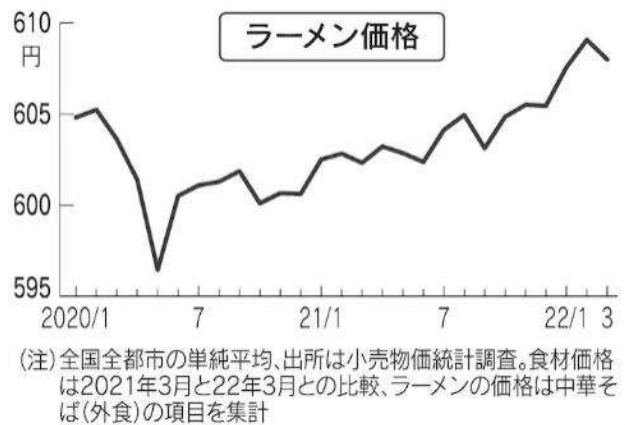
③ 次の(a)～(c)は、北海道に位置する札幌・旭川・根室の雨温図である。雨温図の正しい組み合わせを、下のア～カから1つ選び、解答欄の記号を○で囲め。



〔気象庁〕

	ア	イ	ウ	エ	オ	カ
札幌	(a)	(c)	(b)	(a)	(b)	(c)
旭川	(b)	(a)	(c)	(c)	(a)	(b)
根室	(c)	(b)	(a)	(b)	(c)	(a)

問2 下線部(b)について、次のイラストとグラフをもとに、以下の問いに答えよ。



(出典:日本経済新聞〔22年5月14日〕)

① ラーメンの価格の上昇について述べた文として誤っているものを、次のア～エから1つ選び、解答欄の記号を○で囲め。

ア: ラーメン価格の平均価格は、2020年7月に比べて2022年2月は約9円上昇している。

イ: しょうゆの価格が上昇している原因は、主原料の大豆の輸入価格が上昇したためである。

ウ: 新型コロナによる緊急事態宣言が出されたため、2020年5月にラーメン価格が下がった。

エ: 小麦生産国での天候不順による不作などにより、小麦の需要量が減少したため価格が上昇した。

② 次の表は、世界の小麦の生産量ならびに輸出量の多い上位5か国を示したものである。X～Zに該当する国の組み合わせとして正しいものを、下のア～カから1つ選び、解答欄の記号を○で囲め。

	生産国（2020年、単位千トン）		輸出国（2020年、単位千トン）	
1	X	134 250	Y	37 267
2	インド	107 590	Z	26 132
3	Y	85 896	カナダ	26 111
4	Z	49 691	フランス	19 793
5	カナダ	35 183	ウクライナ	13 056

（出典：『世界国勢図会 2022/23』）

- ア：Xーロシア Yーアメリカ合衆国 Zー中国
 イ：Xーロシア Yー中国 Zーアメリカ合衆国
 ウ：Xーアメリカ合衆国 Yーロシア Zー中国
 エ：Xーアメリカ合衆国 Yー中国 Zーロシア
 オ：Xー中国 Yーロシア Zーアメリカ合衆国
 カ：Xー中国 Yーアメリカ合衆国 Zーロシア

問3 （ c ）にあてはまる文として誤っているものを、次のア～エから1つ選び、解答欄の記号を○で囲め。

- ア：「カーボンニュートラル」を目指して石油（ガソリン）の使用量を制限
 イ：外国産飼料の値上がりにより、肉類価格が上昇
 ウ：コロナ禍で大幅に抑制されていた経済活動が徐々に再開
 エ：中国などでロックダウンしたことにより物流が停滞

問4 下線部(d)について、以下の問いに答えよ。

- ① 次の表は、日本の原油・液化天然ガス（LNG）・石炭の輸入先（2020年、単位は千kLまたは千t）の多い上位5か国を示したものである。A～Cの組み合わせとして正しいものを、下のア～カから1つ選び、解答欄の記号を○で囲め。

	A		B		C	
1	オーストラリア	29 103	オーストラリア	103 489	サウジアラビア	57 300
2	マレーシア	10 594	インドネシア	27 538	アラブ首長国連邦	50 056
3	カタール	8 734	ロシア	21 680	クウェート	12 069
4	アメリカ合衆国	4 722	アメリカ合衆国	9 329	カタール	10 896
5	ロシア	6 140	カナダ	9 091	ロシア	5 242

(出典:『世界国勢図会 2022/23』)

- | | | |
|------------|----------|----------|
| ア：A－原油 | B－石炭 | C－液化天然ガス |
| イ：A－原油 | B－液化天然ガス | C－石炭 |
| ウ：A－石炭 | B－原油 | C－液化天然ガス |
| エ：A－石炭 | B－液化天然ガス | C－原油 |
| オ：A－液化天然ガス | B－原油 | C－石炭 |
| カ：A－液化天然ガス | B－石炭 | C－原油 |

- ② 次のグラフは、日本におけるレギュラーガソリンの店頭価格の推移を示したものである。このグラフの説明として誤っているものを、下のア～エから1つ選び、解答欄の記号を○で囲め。



(出典：時事通信社ホームページ掲載記事〔22年3月10日〕)

- ア：2008年にガソリン価格が急落したのは、第二次石油危機をきっかけとした、原油先物市場からの投資マネーの引き揚げが原因である。
- イ：中東産油国の生産調整の遅れや米国のシェールオイルの増産などにより、2016年1月にはガソリン価格が110円台前半を記録した。
- ウ：2020年に新型コロナウイルスの感染拡大により欧州をはじめとしたロックダウンの影響で、世界各地で生産活動が停止し、ガソリン価格が下がった。
- エ：2022年に入り、新型コロナウイルスのワクチン接種が世界各国でおこなわれ、経済活動再開の動きが出たことで、ガソリン価格が高騰した。

- ③ 近年、地球温暖化への懸念から、石油をはじめとする資源を取り巻く環境が変わりつつある。2015年に開かれたCOP21（国連気候変動枠組条約第21回締約国会議）で、「世界の平均気温上昇を産業革命以前に比べて2℃より十分低く保ち、1.5℃に抑える努力をする」という目的で合意された協定の名前を答えよ。

④ COP21 の開催国について説明した文として正しいものを、次のア～エから 1 つ選び、解答欄の記号を○で囲め。

ア：EU 最大の農業国である一方で、EU 各国の企業と技術協力して航空機を組み立てている。

イ：世界第 3 位の面積をほこり、野菜・果実や肉類の生産量・輸出量が多い農業大国である。

ウ：EU 最大の工業国で、自動車の生産が有名である一方で、環境先進国として名高い。

エ：世界第 11 位の人口（2021 年）を持ち、高齢者の割合（総人口に占める 65 歳以上の人口の割合）は 28.6%（2020 年）と世界で最も高い。

問 5 下線部(e)について、以下の問いに答えよ。

① 日本のエネルギー自給率は 12.0%（2019 年度）で他国と比べても非常に低い水準である。次の表は、日本・アメリカ合衆国・カナダ・フランスの発電エネルギー源別割合（2019 年、単位：%）を示したものである。日本とアメリカ合衆国はそれぞれ A～D のどれに該当するか。その組み合わせとして正しいものを、下のア～クから 1 つ選び、解答欄の記号を○で囲め。

	水力	火力	原子力	地熱 新エネルギー
A	7.1	64.2	19.2	9.5
B	10.8	10.9	69.9	8.4
C	8.9	81.7	6.3	3.1
D	58.8	19.8	15.7	5.7

（出典：『世界国勢図会 2022/23』）

ア：日本—A、アメリカ合衆国—B

イ：日本—B、アメリカ合衆国—A

ウ：日本—B、アメリカ合衆国—D

エ：日本—A、アメリカ合衆国—C

オ：日本—C、アメリカ合衆国—A

カ：日本—D、アメリカ合衆国—B

キ：日本—D、アメリカ合衆国—C

ク：日本—C、アメリカ合衆国—D

- ② 問4③の協定を結んだことにより、日本も温室効果ガス削減に取り組んでいる。中でも「エネルギー供給の低炭素化」は、喫緊^{きつぎん}の課題となっている。この取り組みについて、「二酸化炭素」・「火力発電」・「再生可能エネルギー」の3つの語句を使って説明せよ。

問6 下線部(f)について、以下の問いに答えよ。

- ① ロシアとウクライナについて述べた文のうち誤っているものを、次のア～エから1つ選び、解答欄の記号を○で囲め。

ア：ロシアはかつてソビエト連邦という社会主義国家であったが、ソ連崩壊後にウクライナが分離独立した。

イ：ロシアは世界最大の面積を持ち、国土のほとんどが冷帯気候に属し、タイガと呼ばれる針葉樹林が広がっている。

ウ：ウクライナは黒土地帯が広がり小麦の生産がさかんであるほか、ひまわりの種はロシアと並んで世界トップクラスの生産量をほこる。

エ：ロシアもウクライナも同じラテン民族が多数を占めており、正教会の影響を強く受けている。

- ② ロシアは2000年以降、原油の国際価格の上昇や資源輸出の増加で急激に経済が発展し、著しい経済成長の発展が見込まれるBRICSに数えられるようになった。次のア～エのうち、BRICSに該当しない国を1つ選び、解答欄の記号を○で囲め。

ア：ブラジル	イ：インド	ウ：カナダ	エ：南アフリカ共和国
--------	-------	-------	------------

- ③ 右の地図はウクライナと周辺の地域を示したものである。一方的にロシアに編入された状態になっているAの半島の名前と、ウクライナの海運を支えるBの海の名前をそれぞれ答えよ。



問7 下線部(g)について、以下の問いに答えよ。

- ① 次の表は、日本における、米・小麦・大豆・野菜・果実・肉類（^{げいにく}鯨肉を除く）・魚介類の自給率の推移（%）を示したものである。A～Dの組み合わせとして正しいものを、下のア～エから1つ選び、解答欄の記号を○で囲め。

	1960	1980	2000	2010	2020
米	102	100	95	97	97
A	28	4	5	6	6
B	100	97	81	81	80
小麦	39	10	11	9	15
C	100	81	44	38	38
D	91	81	52	56	53
魚介類	111	97	53	62	57

（出典：『日本国勢図会 2022/23』）

	A	B	C	D
ア	大豆	野菜	果実	肉類
イ	大豆	果実	野菜	肉類
ウ	肉類	果実	野菜	大豆
エ	肉類	野菜	果実	大豆

- ② 次の表は、イギリス・ドイツ・フランス・アメリカ合衆国の農作物自給率（2019年・単位は%）と食料自給率（カロリーベース、2018年・単位は%）を示したものである。イギリスとアメリカ合衆国はそれぞれA～Dのどれに該当するか。その組み合わせとして正しいものを、下のア～クから1つ選び、解答欄の記号を○で囲め。

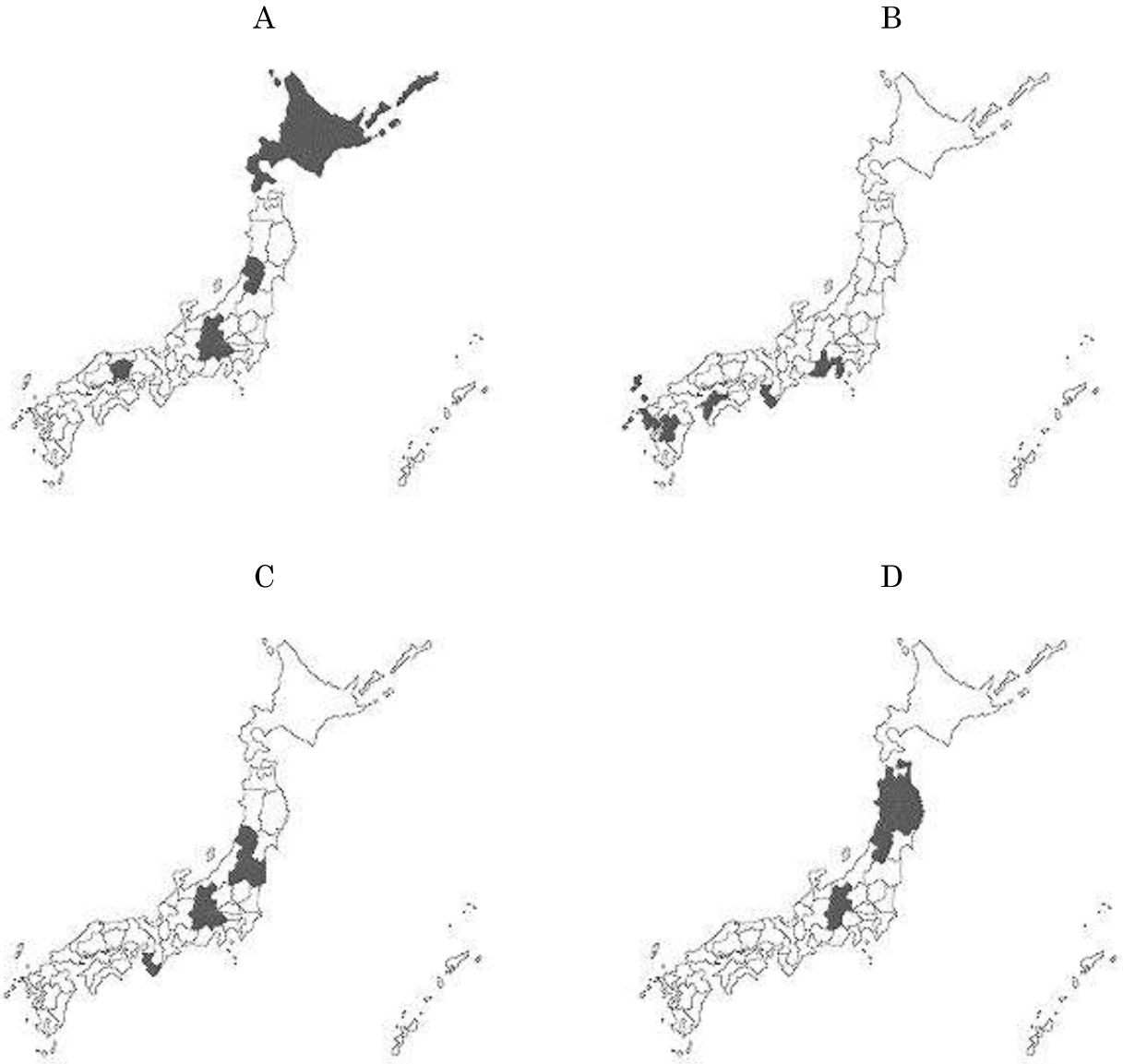
	小麦	豆類	野菜類	果実類	肉類	牛乳 乳製品	魚介類	食料 自給率
A	183	77	72	65	103	104	29	125
B	124	11	42	37	122	106	27	86
C	83	45	43	13	77	88	65	65
D	152	191	86	67	114	102	65	132

（出典：『日本国勢図会 2022/23』）

- ア：イギリス—A、アメリカ合衆国—B
 イ：イギリス—B、アメリカ合衆国—A
 ウ：イギリス—B、アメリカ合衆国—D
 エ：イギリス—A、アメリカ合衆国—C
 オ：イギリス—C、アメリカ合衆国—A
 カ：イギリス—D、アメリカ合衆国—B
 キ：イギリス—D、アメリカ合衆国—C
 ク：イギリス—C、アメリカ合衆国—D

問8 食料自給率向上のため、「国産化」への取り組みが進められている。

① 次のA～Dの地図は、国内でのみかん・もも・ぶどう・りんごの生産上位5都道府県（2020年）を色を塗って示したものである。正しい組み合わせを下のア～エから1つ選び、解答欄の記号を○で囲め。



(『データで見る県勢 2022』をもとに作成)

	A	B	C	D
ア	りんご	ぶどう	みかん	もも
イ	りんご	みかん	もも	ぶどう
ウ	もも	ぶどう	みかん	りんご
エ	ぶどう	みかん	もも	りんご

- ② 次の写真は、岸和田市の道の駅のものである。ここでの運営は、食料自給率の向上と安心・安全な食料の提供を目的とし、地域で生産された様々な農産物や水産物などをその地域で消費することを推進している。このような動きを何というか、漢字4字で答えよ。



(画像：JA いずみ野ホームページより)

- 2 歌や音楽、踊りは歴史上でどのような役割を果たしたのだろうか。歌いたい、音を奏でたい、踊りたいというのは人類の根源的な欲求である。このことに関連する次の A～O の文章を読んで、あとの問いに答えよ。

A 日本の遺跡から出土する銅鐸は、宗教儀礼の場で用いられた祭器と考えられているが、もともとは楽器だったという説がある。

問1 Aの文について、以下の問いに答えよ。

- ① 日本で銅鐸がつけられた時代について述べた文として正しいものを、次のア～エから1つ選び、解答欄の記号を○で囲め。

ア：主に打製石器を使用し、大型動物を狩って食料としていた。

イ：厚手で黒褐色こっかつしよくの土器を使用し、貝の殻や魚の骨などが貝塚に捨てられた。

ウ：稲作が広まり、収穫した米を高床倉庫におさめた。

エ：支配者が大きな墓に埋葬され、その周囲に埴輪が並べられた。

- ② 世界各地の宗教について述べた文として正しいものを、次のア～エから1つ選び、解答欄の記号を○で囲め。

ア：パレスチナに生まれたイエスは、ローマ帝国の保護のもと、ローマでキリスト教を布教した。

イ：アラビア半島に生まれたムハンマドはイスラム教を始め、彼の死後に神の教えが『コーラン』としてまとめられた。

ウ：唯一神アッラーを信仰するユダヤ教は、毎日メッカに向かって礼拝をするなど厳しい戒律をもうけている。

エ：インドに生まれたシャカは、従来のヒンドゥー教を発展させて仏教の教えを作り上げた。

B 「魏志倭人伝」には、「死者が出ると、喪主が号泣し、他の人はその周りで歌を歌い、舞を舞って、酒を飲む」という記述があり、当時の日本における音楽が葬送の儀礼の場で用いられたことがわかる。

問2 Bの文について、以下の問いに答えよ。

① 「魏志倭人伝」について述べた文として正しいものを、次のア～エから1つ選び、解答欄の記号を○で囲め。

ア：邪馬台国では、女王以外に身分の差はなく、争いのない平和な国だったため、刑罰の制度はなかった。

イ：邪馬台国の女王卑弥呼は、中国の魏に使いを送り、中国の皇帝から金印を授けられた。その金印が江戸時代に福岡県の志賀島で発見されている。

ウ：女王卑弥呼が亡くなったあと、男性の王が後を継ぎ、武力で国を統治したため、その後、女王は現れなかった。

エ：邪馬台国の所在地に関する記述があるが、それによると九州説や近畿説など議論が分かれ、いまだ結論が出ていない。

② 次の史料のうち、「魏志倭人伝」より後の時代の日本について記述したものを、次のア～エから1つ選び、解答欄の記号を○で囲め。

ア：「私の祖先は、自らよろいやかぶとを身に着け、山や川をかけめぐり、東は55国、西は66国、さらに海をわたって95国を平定した。」

イ：「もし人が人の目をつぶしたときは、かれの目をつぶす。」

ウ：「楽浪郡の海のかなたに倭人がいて、100以上の国に分かれている。」

エ：「建武中元二年、倭の奴国が漢に朝貢したので光武帝は印綬（金印とひも）を送った。」

C 日本では長らく歌は口伝えされてきた。しかし、中国や朝鮮半島から漢字が伝来したことで、日本独自の歌を記録することができるようになった。その集大成として、奈良時代に『万葉集』が成立した。

問3 Cの文について、以下の問いに答えよ。

① 『万葉集』には、「から衣^{ころも}すそに取りつき 泣く子らを 置きてぞ来ぬや 母^{おも}なしにして」という和歌が収録されている。この和歌の内容について説明した文として最も適当なものを、次のア～エから1つ選び、解答欄の記号を○で囲め。

ア：これは天皇による歌。戦地に向かうため、都に残した皇太子のことを思って、遠征地で詠んだ。

イ：これは防人による歌。生まれた土地に残してきた子どもを思って、九州の任地で詠んだ。

ウ：これは渡来人による歌。から衣は中国の服を指し、遠く離れた故郷を思って、日本で詠んだ。

エ：これは僧侶による歌。母のいない孤児を預かった僧侶が、袈裟^{けさ}にすぎる孤児たちを振り切って修行に出るときに詠んだ。

② 歴史上で唯一、『万葉集』を出典として定められた元号（年号）は何か。漢字で答えよ。

D 奈良時代には、^{ががくりよう}雅楽寮という機関が設置された。これは、国の行事で必要とされる音楽の教師と生徒を確保するための組織で、日本古来の歌や舞だけでなく、中国・朝鮮の音楽も取り入れられていたことがわかっている。

この雅楽寮が活躍した国家行事として、東大寺の大仏^{かいげん}開眼供養がある。僧侶のほか、雅楽寮や様々な寺に所属する音楽家が参加し、仏教音楽の演奏が行われた。

問4 Dの文について、以下の問いに答えよ。

① 雅楽寮は、この時代に導入された律令の規定に基づいて設置された。律令について述べた a~d の文のうち、正しい内容の文の組み合わせとして適当なものを、下のア~エから1つ選び、解答欄の記号を○で囲め。

a : 大宝律令の制定によって、初めて公地公民制が採用された。

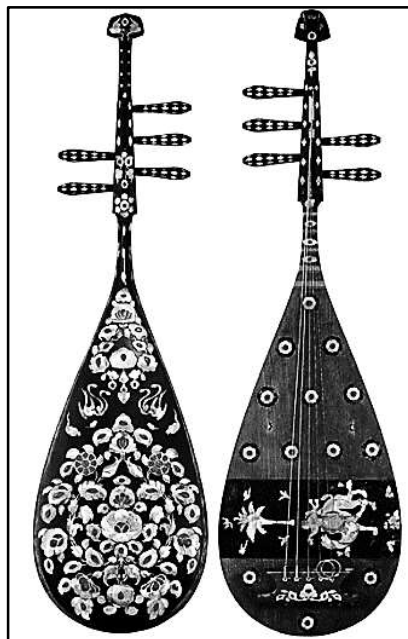
b : 律は刑罰について定め、令は役所の組織や税制について定めている。

c : 良民男子には、租・調・庸のほかに都の警備にあたる雑徭が課せられた。

d : 律令に基づいて、戸籍が6年に1度作られた。

ア : a・c イ : a・d ウ : b・c エ : b・d

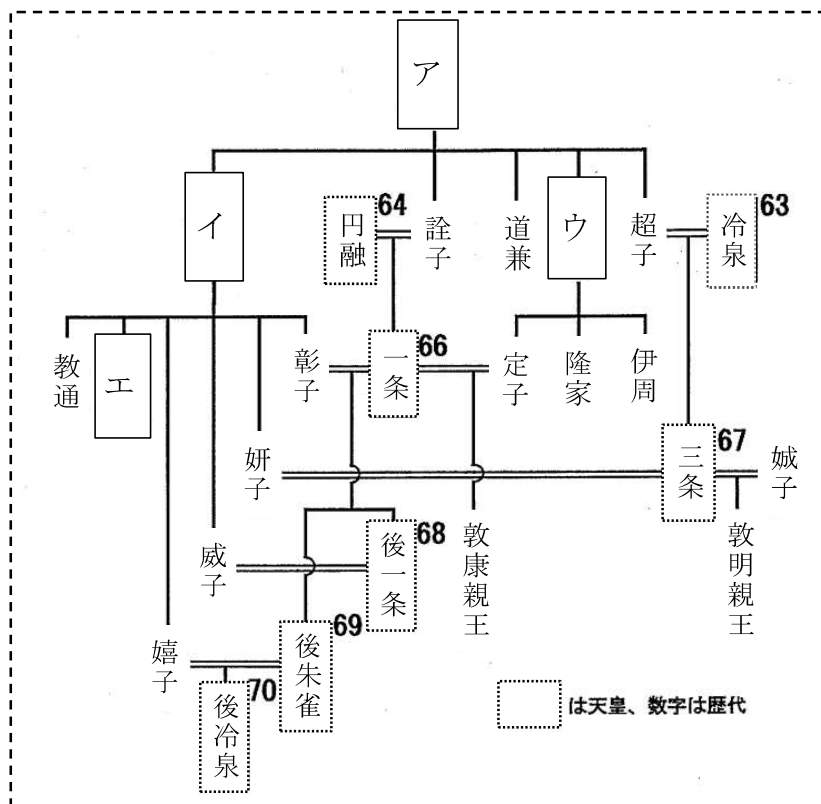
② 下の写真は、東大寺に伝わる^{らでんしたんごげんびわ}螺鈿紫檀五弦琵琶と呼ばれる、インド起源の楽器である。この琵琶も含めた聖武天皇の遺品を収めた東大寺にある建物を何というか。漢字で答えよ。



E 都が京都に移ってからも、音楽は天皇や貴族にとって第一の教養であった。多くの文学作品で和歌と管弦のあそびが描かれるのも、その証拠である。藤原道長が自身の栄華を和歌で表現したり、『古今和歌集』など数々の和歌集が作られたりするの、この平安時代である。

問5 Eの文について、以下の問いに答えよ。

- ① 下の図は、天皇家と藤原氏の関係を示した系図の一部である。藤原道長にあたるのは図の中のア～エのうちどれか。1つ選び、解答欄の記号を○で囲め。



- ② 『古今和歌集』の撰者の一人で、『古今和歌集』の仮名序を書いたことで知られる人物はだれか。次のア～エから1つ選び、解答欄の記号を○で囲め。

ア：紀貫之 イ：大伴家持 ウ：紫式部 エ：清少納言

F 鎌倉時代に入ると、歌は単なる娯楽というだけでなく、情報伝達の手段という側面もあった。『平家物語』が琵琶法師の弾き語りによって広く伝わったり、一遍が踊念仏おどりねんぶつを通して仏教の教えを説いたりしたのもこの時代である。

問6 Fの文について、以下の問いに答えよ。

① 『平家物語』に関連して、源氏や平氏について述べた a～d の文のうち、正しい内容の文の組み合わせとして適当なものを、下のア～エから1つ選び、解答欄の記号を○で囲め。

a：源義家が前九年合戦と後三年合戦をしずめたことをきっかけに、源氏が東国に進出した。

b：源頼朝が暗殺されたことをきっかけに、承久の乱が起こった。

c：平将門が瀬戸内海で反乱を起こしたが、源氏によってしずめられた。

d：平清盛は保元の乱と平治の乱に勝利して、武士として初めて太政大臣になった。

ア：a・c イ：a・d ウ：b・c エ：b・d

② 一遍の踊念仏に代表されるような、この時代に新しく登場した仏教の教えには平安時代までと比べてどのような特徴があったか。当時の仏教がどのような人々に信仰されていたかということに着目して、30～40字で説明せよ。

G 室町時代になると、歌や音楽、舞踊、衣装が組み合わせたり、ひとつの芸能へと発展する。それが能である。□□□□の保護を受けた観阿弥と世阿弥が能を大成した。

問7 Gの文について、以下の問いに答えよ。

① □□□□に入る人物について述べた文として正しいものを、次のア～エから1つ選び、解答欄の記号を○で囲め。

ア：鎌倉幕府を滅ぼし、天皇中心の政権を樹立する手助けをした。

イ：将軍の後継者争いの原因となり、応仁の乱のきっかけをつくった。

ウ：朝貢の形式をきらい、日明貿易を停止させた。

エ：南北朝の動乱をしずめて統一し、朝廷にも影響力をおよぼした。

- ② 能の合間に演じられ、こっけいなせりふを特徴とする演劇を何というか。
漢字で答えよ。

H 戦国時代が終わりに近づくと、人々の関心は再び歌や踊りに向かった。^{しやみせん}三味線を伴奏に人形を操る人形浄瑠璃や、出雲の阿国という女性が始めたかぶき踊りが人気を集めた。

問8 Hの文について、以下の問いに答えよ。

- ① 戦国時代について述べた文として正しいものを、次のア～エから1つ選び、
解答欄の記号を○で囲め。

ア：越後の武田信玄や甲斐の上杉謙信などの戦国大名が活躍した。

イ：鉄砲が伝来すると、堺などで生産され、国内に普及した。

ウ：織田信長は楽市・楽座令を発し、座の独占権を認めた。

エ：豊臣秀吉が刀狩令を発したため、武士と農民の区別がなくなった。

- ② (1)三味線のもととなった^{さんしん}三線はどこから日本に伝わったか。(2)出雲は現在の都道府県でいうとどこか。(1)と(2)の答えの組み合わせとして正しいものを次のア～エから1つ選び、解答欄の記号を○で囲め。

ア：(1)一蝦夷地	(2)一岩手県	イ：(1)一蝦夷地	(2)一島根県
ウ：(1)一琉球	(2)一岩手県	エ：(1)一琉球	(2)一島根県

I 江戸時代に入ると大きな戦乱がなくなり、特に元禄時代には人形浄瑠璃や歌舞伎がいつそう発展し、市川団十郎や坂田藤十郎などの人気役者が生まれた。また、人々の間では盆踊りが年中行事として定着した。

問9 Iの文について、以下の問いに答えよ。

- ① 元禄時代に出された法令や作られた制度として正しいものを、次のア～エから1つ選び、解答欄の記号を○で囲め。

ア：異国船打払令	イ：参勤交代
ウ：公事方御定書	エ：生類憐みの令

- ② 『曾根崎心中』や『国性（姓）爺合戦』などの人形浄瑠璃の脚本を残した人物はだれか。漢字で答えよ。

J 18世紀以降、幕府の財政が悪化したため、たびたび幕政の改革が行われた。しかし、状況は良ならず、人々は幕府に対する不満や批判を川柳や狂歌という形で表現した。

問10 Jの文について、以下の問いに答えよ。

- ① この時期の狂歌に「白河の 清きに魚の 住みかねて もとの濁りの 田沼こひしき」というものがある。この狂歌が批判した政治の内容として正しいものを、次のア～エから1つ選び、解答欄の記号を○で囲め。


ア：上知令を発するも、大名・旗本に反対され失脚した水野忠邦の政治。

イ：株仲間を認めて流通を統制するも、賄賂の横行で批判された田沼意次の政治。

ウ：厳しい風紀の取りしまりをするも、人々の反感を買った松平定信の政治。

エ：米市場や魚市場などを認めて物価調整をはかるも、失敗した徳川吉宗の政治。

- ② 次の絵は、この時代の人々が音楽を奏で、それにあわせて語る様子を描いたものである。この絵を描いた人物は、江戸時代後期に活躍した浮世絵の画家で、すぐれた作風からゴッホなどにも影響を与えた。その人物として正しいものを、下のア～エから1つ選び、解答欄の記号を○で囲め。



ア：葛飾北斎 イ：尾形光琳 ウ：俵屋宗達 エ：菱川師宣

K 幕末にペリーが来航したことにより、倒幕への動きが一気に加速した。このとき、民衆は「ええじゃないか」と唱えながら踊り、「世直し」の気運が高まった。このあと、薩摩藩と長州藩を中心とする新政府軍が旧幕府軍を破り、明治維新となった。

問11 Kの文について、以下の問いに答えよ。

① 幕末のできごとについて述べた a～d の文のうち、正しい内容の文の組み合わせとして適当なものを、下のア～エから 1 つ選び、解答欄の記号を○で囲め。

a : 幕府は日米和親条約を締結し、長崎と箱館（函館）を開港し通商を開始した。

b : 開港後、生糸の輸出量が増大したので、価格が高騰し民衆は苦しんだ。

c : 大老の井伊直弼は反対派に暗殺された。これを安政の大獄という。

d : 老中の安藤信正は反対派をおさえるために、公武合体政策を進めた。

ア : a・c イ : a・d ウ : b・c エ : b・d

② 新政府軍と旧幕府軍の戦いに関連した I～IV のできごとを時代順に正しく並べたものはどれか。下のア～エから 1 つ選び、解答欄の記号を○で囲め。

I : 江戸城無血開城

II : 鳥羽・伏見の戦い

III : 会津の戦い

IV : 五稜郭の戦い

ア : I → II → III → IV

イ : I → II → IV → III

ウ : II → I → III → IV

エ : II → I → IV → III

L 明治時代になると、西洋の文化が流入し、「文明開化」が進んだ。一方、音楽の分野では西洋化が進まず、明治政府は西洋音楽を学校教育の現場で国民に教えていった。このような近代の学校における音楽を「唱歌」といい、その中には「蛍の光」や「あおげば尊し」など現代の我々にもなじみ深い曲がある。

問12 Lの文について、以下の問いに答えよ。

① 明治時代の教育制度について述べた文として正しいものを、次のア～エから1つ選び、解答欄の記号を○で囲め。

ア：学制の公布によって、小学校の義務教育が始まったので、公布の10年後には100%の子女が学校に通っていた。

イ：教育勅語の発布によって「忠君愛国」の道徳が教育の柱となり、国民の精神的なよりどころとされた。

ウ：「お雇い外国人」として来日したクラークは東京大学で教師として活躍し大森貝塚を発見した。

エ：岩倉使節団に同行した樋口一葉は、帰国後に女子英学塾を開くなど、女子教育に力を尽くした。

② 唱歌の「蛍の光」はスコットランドの民謡に日本語の歌詞をつけたものである。この「蛍の光」の4番の歌詞は時代とともに変わっている。次の(1)～(3)は4番の歌詞の冒頭の変遷を時代順に並べたものである。さて、大日本帝国憲法が発布されたのはいつであると考えられるか。下のア～エから1つ選び、解答欄の記号を○で囲め。

(1) 千島の奥も 沖縄も 八洲^{やしま}の内の 守りなり

(2) 千島の奥も 台湾も 八洲の内の 守りなり

(3) 台湾の果ても 樺太も 八洲の内の 守りなり

※八洲とは日本国の別名。

ア：(1)より前	イ：(1)と(2)の間
ウ：(2)と(3)の間	エ：(3)より後

M 大正時代には、映画（活動写真）が制作されたり、蓄音機やレコードが広まったりしたことで、歌謡曲が全国で流行するようになった。またラジオ放送の開始によって、音楽は大衆の娯楽として定着していった。

問13 Mの文について、以下の問いに答えよ。

① 大正時代について述べた文 a と b の正誤の組み合わせとして正しいものを、下のア～エから1つ選び、解答欄の記号を○で囲め。

a : 第一次護憲運動によって山県有朋内閣が倒れた。

b : 吉野作造が民本主義を唱え、大正デモクラシーの風潮が広まった。

ア : a—正 b—正	イ : a—正 b—誤
ウ : a—誤 b—正	エ : a—誤 b—誤

② 日本におけるラジオ放送の開始よりも後に起こったできごととして正しいものを、下のア～エから1つ選び、解答欄の記号を○で囲め。

ア : サラエボ事件	イ : 世界恐慌の開始
ウ : 国際連盟の設立	エ : 南北戦争の開始

N 昭和の日本では、軍部が台頭し、長い戦争の時代に突き進む。戦時統制下では、出版物の検閲が始まり、敵国であるアメリカ・イギリスの音楽は禁止された。一方で、出征兵士や家族の心情を歌う歌や軍歌が多く作られた。

問14 Nの文について、以下の問いに答えよ。

① 軍部の台頭から長い戦争の時代に関連した I～IVのできごとを時代順に正しく並べたものはどれか。下のア～エから1つ選び、解答欄の記号を○で囲め。

I : 柳条湖事件 II : 五・一五事件
III : 盧溝橋事件 IV : 二・二六事件

ア : I → II → III → IV	イ : I → II → IV → III
ウ : II → I → III → IV	エ : II → I → IV → III

② 1930～40年代のアメリカ・イギリスについて述べた文として正しいものを、次のア～エから1つ選び、解答欄の記号を○で囲め。

ア：アメリカのルーズベルト大統領は、アウトバーンの建設など失業者を救済する政策を進め、不況を脱した。

イ：イギリスのムッソリーニ首相は、エチオピアに侵攻し国際的な非難を受けたため、国際連盟を脱退した。

ウ：アメリカとイギリスの首脳は、太平洋戦争が開戦する前から、戦後の平和構想を話し合うため会談をおこなっていた。

エ：アメリカとイギリスは太平洋やアジアでは協力して日本と戦ったが、ヨーロッパでは一緒に戦うことはなかった。

○ 戦局が悪化した日本は、昭和天皇のラジオ放送によって終戦をむかえた。その後、焼け野原の状態から懸命に働き、復興を成し遂げた日本国民を支えたのは、なみきみちこ並木路子の「リンゴの唄」や美空ひばりの「東京キッド」といった歌謡曲であった。

問15 ○の文について、以下の問いに答えよ。

① この昭和天皇のラジオ放送を何というか。漢字4字で答えよ。

② 戦後、男女の差別が撤廃されていき、並木路子や美空ひばりのように、社会で活躍する女性が増えていった。さて、戦後の女性の活躍について述べた文として正しいものを、次のア～エから1つ選び、解答欄の記号を○で囲め。

ア：GHQの指示により女性にも参政権が与えられた結果、戦後初の総選挙で女性の衆議院議員が誕生した。

イ：戦後、社会に出て働く女性が増えた結果、企業に勤める女性たちのことを女子挺身隊と呼ぶようになった。

ウ：学校教育法が制定されたことで、義務教育が6年から9年に延長され、男女共学の原則が撤廃された。

エ：平塚らいてうと市川房枝らを中心に新婦人協会が設立され、女性の地位を高める運動が起こった。

問16 次の(1)～(3)のできごとが起こった時期と最も近い時代の文章を A～O から選択したとき、最も適当な組み合わせを、下のア～カから1つ選び、解答欄の記号を○で囲め。

- (1) 遣唐使の吉備真備が、帰国の際に唐の楽器と音楽書を持ち帰った。
- (2) 南蛮貿易を通じて、オルガンが日本に紹介された。
- (3) フランス革命の際、のちの国歌である「ラ・マルセイエーズ」が歌われた。

ア : (1)—D (2)—F (3)—J

イ : (1)—D (2)—F (3)—L

ウ : (1)—D (2)—H (3)—J

エ : (1)—F (2)—H (3)—I

オ : (1)—F (2)—H (3)—J

カ : (1)—F (2)—I (3)—L


3 2022年に起きた様々な出来事に関して、あとの問いに答えよ。

1月中旬以降、一旦は落ち着いていた国内の新型コロナウイルス感染者数が再拡大する傾向がみられた。これをうけて(a)感染拡大防止のため、全国の多くの地域でまん延防止等重点措置の適用がなされた。

問1 下線部(a)について新型コロナウイルスのような感染症予防対策は、日本の社会保障制度の4つの柱のいずれに該当するか。正しいものを次のア～エから1つ選び、解答欄の記号を○で囲め。

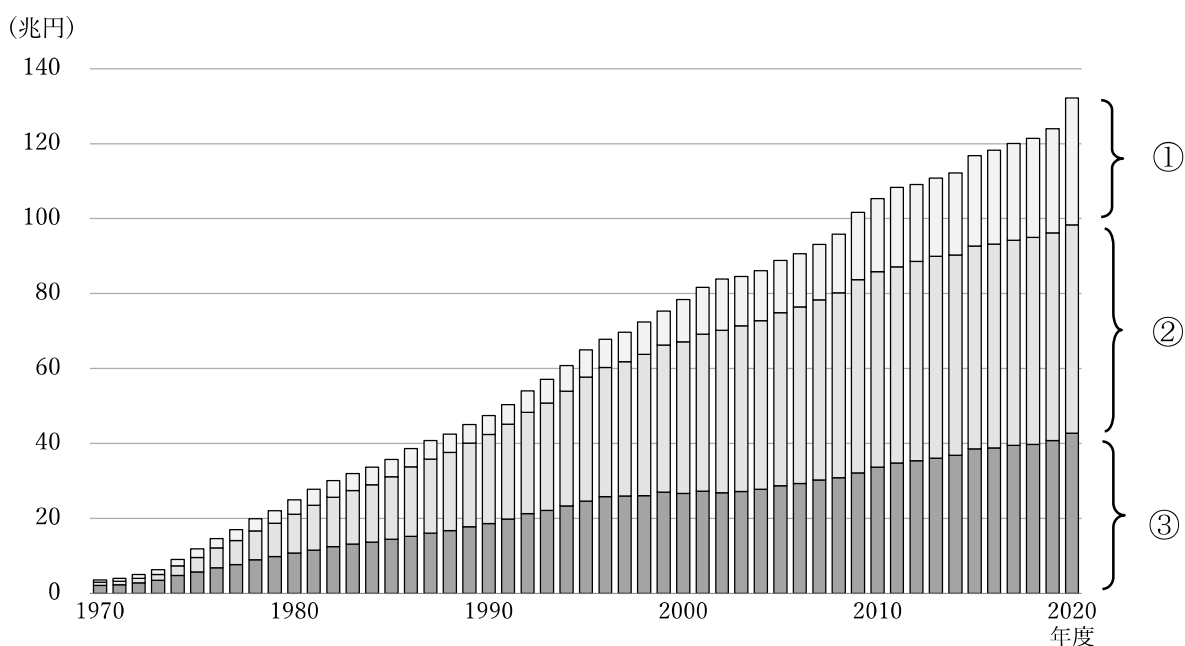
ア：社会保険 イ：公衆衛生 ウ：社会福祉 エ：公的扶助

問2 問1の社会保障制度をおこなう上で重要な役割をもつ、右の地図記号で表される機関は何か。漢字で答えよ。



問3 2022年8月に国立社会保障・人口問題研究所は、「2020年度はコロナ対策の給付のため社会保障給付が過去最高を記録した」と発表した。下のグラフは、日本の社会保障給付費の推移を示したグラフである。①～③はそれぞれ医療、福祉その他、年金のいずれかである。②に該当するのは何か。正しいものを次のア～ウから1つ選び、解答欄の記号を○で囲め。

ア：医療 イ：福祉その他 ウ：年金



「国立社会保障・人口問題研究所」令和2年度 社会保障費用統計より

2月初旬から3月初旬にかけて、2021年の衆議院議員選挙での(b)「一票の格差」や「小選挙区の区割り」、「選挙の無効請求」などについての(c)裁判の判決が全国各地の高等裁判所で出そろった。選挙については「違憲状態」との指摘もあったが、いずれも選挙の無効請求については棄却された。12月末には「一票の格差」を是正するため、衆議院議員選挙の小選挙区の区割りを変更する、改正された (d) が施行された。

問4 下線部(b)について、「一票の格差」とはどういう意味か。解答欄の出だしの文章に続けて、30字程度で説明せよ。

問5 下線部(c)について、現在の日本の裁判制度について述べた文として正しいものを、次のア～エから1つ選び、解答欄の記号を○で囲め。

ア：民事裁判では、裁判所は判決を下すだけでなく和解や調停、起訴を行うこともできる。

イ：犯罪被害者や遺族が裁判に加わり、被告人に質問したり、刑罰の重さについて意見を述べることができる。

ウ：裁判員制度では、国民の中から選ばれた裁判員3名が刑事裁判の第一審のみ参加し、6名の裁判官とともに有罪無罪の判断や、有罪の場合は刑罰の内容を決める。

エ：より慎重な裁判を実施する目的で公判前整理手続が導入されたため、審理期間が長くなる傾向がある。

問6 空欄 (d) にあてはまる法律を漢字で答えよ。

4月1日、改正された (e) が施行された。これに伴って成年年齢は18歳に引き下げられることとなった。この改正点を適用すると、満18歳になれば親権に服することがなくなり、自分の意思で(f)さまざまな契約を結ぶことが可能になった。また同時に、(g)原則として契約は当事者どうしの意思決定に基づいておこなわれるもののため、それを実行する責任も負うこととなった。

問7 空欄 (e) にあてはまる法律を漢字で答えよ。

問8 下線部(f)について、2001年から施行された消費者契約法の内容として正しいものを、次のア～エから1つ選び、解答欄の記号を○で囲め。

ア：購入してから8日以内であれば無条件に契約を解除することができる。

イ：契約を結んでから5年以内で、違法と気づいてから1年以内であれば契約を解除することができる。

ウ：企業の過失を証明しなくても、被害を受けた場合は契約を解除することができる。

エ：消費者の権利を明確にし、自立の支援を基本理念としている。

問9 下線部(g)について、このような原則を何というか。解答欄にあうように、漢字で答えよ。

6月15日に第208回国会が閉会し、同日開催された臨時の（h）で(i)第26回参議院議員通常選挙が6月22日公示、7月10日投開票と決定された。選挙の結果を受けて、8月3日には(j)第209回国会が会期3日間で召集され、新しい参議院議長と副議長が選出された。

問10 空欄（h）には、内閣総理大臣を議長とし、すべての大臣が出席する会議の名称が入る。あてはまる語句を漢字で答えよ。

問11 下線部(i)について、今回の選挙について述べた文として誤っているものを、次のア～エから1つ選び、解答欄の記号を○で囲め。

ア：選挙区では隣接する2つの県で1名を選出する合区が初めて設けられた。

イ：改選議席が増え、比例代表選挙50議席、選挙区選挙48議席となった。

ウ：自由民主党が改選過半数を確保した。

エ：当選した女性議員数は、参議院議員選挙史上最多となった。

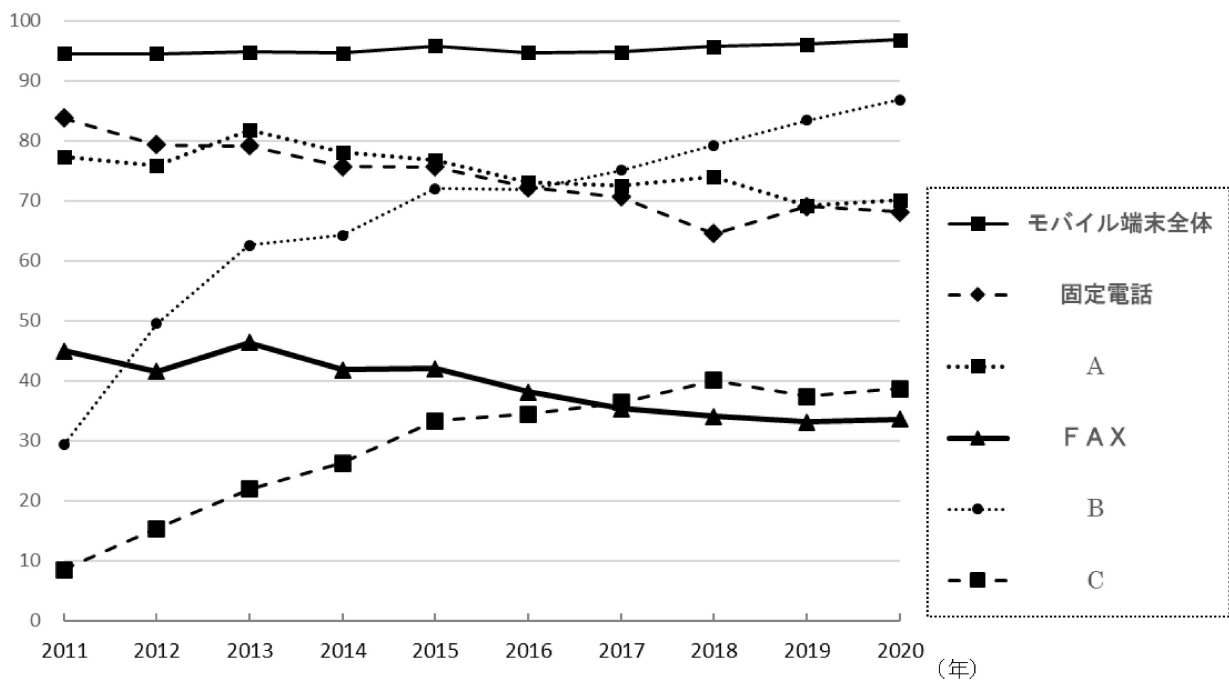
問12 下線部(j)について、国会を4つの種類に分類したとき、この国会はどれにあたるか。正しいものを次のア～エから1つ選び、解答欄の記号を○で囲め。

ア：通常国会 イ：臨時国会 ウ：特別国会 エ：緊急集会

7月2日午前から7月5日午後にかけて KDDI の大規模な(k)通信障害が発生した。この通信障害により、KDDI の回線がつながりにくくなった。被害はこれにとどまらず、(l)その回線を使用する宅配業者、鉄道、金融機関の情報システムなどに障害が出て大きな被害をもたらした。情報化が進み、生活の中で情報の役割が大きくなる中、今回のような通信障害のリスクを認識するだけでなく、(m)個人が情報を正しく活用する能力が求められる。

問13 下線部(k)について、次のグラフは主な通信機器保有率(世帯)の推移を示したものである。A～C に該当する通信機器の正しい組み合わせを、下のア～カから1つ選び、解答欄の記号を○で囲め。

主な通信機器保有率(世帯)の推移 (単位:%)



(総務省ホームページより作成)

	A	B	C
ア	パソコン	タブレット端末	スマートフォン
イ	パソコン	スマートフォン	タブレット端末
ウ	タブレット端末	パソコン	スマートフォン
エ	タブレット端末	スマートフォン	パソコン
オ	スマートフォン	パソコン	タブレット端末
カ	スマートフォン	タブレット端末	パソコン

問14 下線部(l)の原因は、現在の私たちの生活が情報ネットワークの発達に依存しているところが大きいためである。このような通信技術のことを何というか。正しいものを次のア～エから1つ選び、解答欄の記号を○で囲め。

ア：ISO イ：AI ウ：ICT エ：CSR

問15 下線部(m)について、このことを何というか。

9月1日、ニューヨーク外国為替市場で円相場が一時1ドル=140円台に下落した。これは1998年8月以来、およそ24年ぶりの(n)円安水準となる。また、2月下旬のロシアのウクライナ侵攻以降、世界全体では(o)様々な商品の供給が需要に追いつかず、価格上昇が続いている。このような経済情勢をうけて(p)金融引き締め傾向の国が見られるようになった。

問16 下線部(n)について、円安の場合、日本のメリットとデメリットについて説明した文として誤っているものを、次のア～エから1つ選び、解答欄の記号を○で囲め。

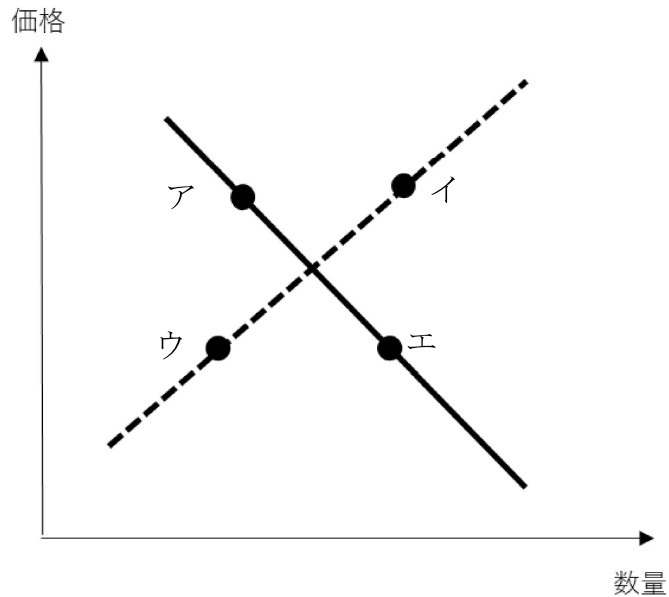
ア：輸出価格が安くなるため、日本製品の海外での価格競争力が増す。

イ：海外からの輸入品が、安く買えるようになる。

ウ：原材料を輸入する企業は、仕入れ価格が高くなるため、業績悪化につながる。

エ：日本から海外に旅行する場合、海外での滞在費用が高くなる。

問17 下線部(o)について、下の図は需要曲線と供給曲線を示している。下線部の状況として「需要量が一定であるにもかかわらず、供給量が不足している」と考えた場合、曲線が移動して決まる新たな均衡点はア～エのいずれになるか。正しいものを1つ選び、解答欄の記号を○で囲め。



問18 下線部(p)について、これは物価上昇傾向（インフレ）の場合に預金金利を引き下げることなどを意味している。日本の場合、インフレ傾向が続く場合にとられる金融政策や財政政策として最も適当なものを、次のア～エから1つ選び、解答欄の記号を○で囲め。

ア：日本銀行は、金融機関へ積極的にお金を貸し出す。

イ：日本銀行は、金融機関に国債などを売却する。

ウ：政府は、新たな雇用を生むため、積極的に公共事業を行う。

エ：政府は、年金生活者など一定額の所得の人の生活が苦しくならないよう、減税を実施する。

12月10日、改正された(q)地方自治法が参議院の本会議で可決し、成立した。次回の統一地方選挙から実施できるようにする。改正の内容は、個人事業主と(r)地方議員の兼業についての規制を緩和して、地方議員のなり手不足を解消するねらいがある。

また、付則には選挙に立候補しやすくするため、政府が事業主に対して立候補しようとする従業員が(s)休暇を取得しやすくなるよう、就業規則に盛り込むよう促すことも明記されている。

問19 下線部(q)について説明した文として誤っているものを、次のア～エから1つ選び、解答欄の記号を○で囲め。

ア：地方分権一括法の制定により、国から多くの仕事や財源が地方自治体に移譲された。

イ：地方自治では、国の法律に違反しない限り、独自に政策を実施することができる。

ウ：自分が応援したい地方自治体に寄付という形で貢献する「ふるさと納税」制度があり、税金の控除や返礼品などの特典がある。

エ：地方自治体ごとに自主財源の金額が異なるため、その格差を減らすために国庫支出金が国から配分される。

問20 下線部(r)について、地方議員について説明した文として正しいものを、次のア～エから1つ選び、解答欄の記号を○で囲め。

ア：地方議員を解職させる場合、有権者の一定数以上の署名を集め、選挙管理委員会に請求する。

イ：地方議員の被選挙権は、都道府県の場合は30歳以上、市町村の場合は25歳以上である。

ウ：地方議会には解散制度はなく、4年の任期をまっとうすることができる。

エ：副知事や副市長などは地方議会の議員から選任される。

問21 下線部(s)について、労働者の休暇についての規定を定めている法律を漢字で答えよ。

1	問1	①	アイウエオカ
		②	アイウエ
		③	アイウエオカ
	問2	①	アイウエ
		②	アイウエオカ
	問3	アイウエ	
	問4	①	アイウエオカ
		②	アイウエ
		③	
		④	アイウエ
	問5	①	アイウエ オカキク
		②	
		③	
	問6	①	アイウエ
		②	アイウエ
		③	A 半島 B 海
問7	①	アイウエ	
	②	アイウエ オカキク	
問8	①	アイウエ	
	②		
2	問1	①	アイウエ
		②	アイウエ
	問2	①	アイウエ
		②	アイウエ

2	問3	①	アイウエ
		②	
	問4	①	アイウエ
		②	
	問5	①	アイウエ
		②	アイウエ
	問6	①	アイウエ
		②	
		③	
		④	
	問7	①	アイウエ
		②	
	問8	①	アイウエ
		②	アイウエ
	問9	①	アイウエ
		②	
問10	①	アイウエ	
	②	アイウエ	
問11	①	アイウエ	
	②	アイウエ	
問12	①	アイウエ	
	②	アイウエ	
問13	①	アイウエ	
	②	アイウエ	
問14	①	アイウエ	
	②	アイウエ	
問15	①		
	②	アイウエ	
問16	アイウエオカ		

3	問1	アイウエ				
	問2					
	問3	アイウ				
	問4	一票の格差とは、				
						30
	問5	アイウエ				
	問6					
	問7					
	問8	アイウエ				
	問9	の原則				
	問10					
	問11	アイウエ				
	問12	アイウエ				
	問13	アイウエオカ				
	問14	アイウエ				
	問15					
	問16	アイウエ				
	問17	アイウエ				
	問18	アイウエ				
問19	アイウエ					
問20	アイウエ					
問21						

合計	
----	--