

令和8年度

帝塚山学院泉ヶ丘中学校

入学者選抜試験問題

1次A入試

社会

(試験時間40分)

受験番号	
------	--

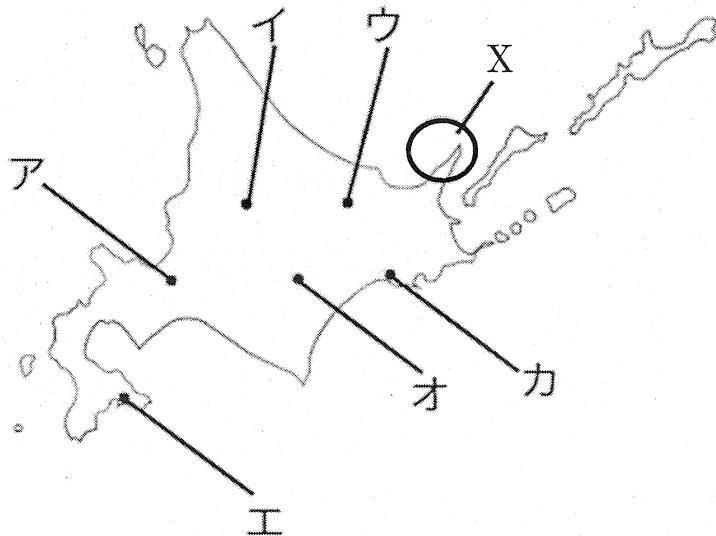
- 1 高市早苗首相は就任記者会見で、令和8年度中に防災庁の設置を目指して準備を進めると表明しました。このニュースを知ったイズミさんは、各地の防災の取り組みについて調べ、カードA～Fにまとめました。これらを読んで、あとの問いに答えなさい。

A 札幌市と冬の防災

札幌市では大雪により人々の生活に影響が出ないように、除雪作業の効率化やロードヒーティングの設置などを通じて、冬季の安全で快適な生活環境の維持に取り組んでいます。

問1 Aのカードの内容について、以下の問いに答えなさい。

- ① 札幌市の位置を次の地図中のア～カから1つ選び、解答欄の記号を○で囲みなさい。



- ② 世界自然遺産に登録されている地図中のXの半島名を漢字で答えなさい。

- ③ 米づくりにおいて、寒さに強い品種が求められた北海道では、低温でもよく育つ米が開発されました。このように、地域の気候などに合わせて品種改良が進められ、その土地に合った「銘柄米」が全国各地で生まれています。米の栽培品種と主な産地の組み合わせとして正しいものを次から 1 つ選び、解答欄の記号を○で囲みなさい。

記号	ア	イ	ウ	エ
栽培品種	みずかがみ	つや姫	ななつぼし	はえぬき
主な産地	秋田県	山形県	新潟県	北海道

- ④ 次の表は、北海道が収穫量全国第2位の農作物を示したものです。表中の A～C にあてはまる農作物の組み合わせとして正しいものをア～カから 1 つ選び、解答欄の記号を○で囲みなさい。

順位(2023年)	A	B	C
1位	千葉県	熊本県	山形県
2位	北海道	北海道	北海道
3位	青森県	愛知県	山梨県

(『日本国勢図会 2025/26』)

	A	B	C
ア	だいこん	トマト	もも
イ	だいこん	トマト	さくらんぼ
ウ	トマト	だいこん	もも
エ	トマト	だいこん	さくらんぼ
オ	きゅうり	だいこん	もも
カ	きゅうり	トマト	さくらんぼ

B 新潟県・^{しなのがわ}信濃川の洪水対策

新潟県では信濃川流域で洪水対策が行われています。雪どけの季節には水かさが増えて洪水が起こりやすいため、県では「^{おおこうづぶんすい}大河津分水」という水路を使って余分な水を日本海に流すようにしています。

問2 Bのカードの内容について、以下の問いに答えなさい。

- ① 新潟県では、かつて四大公害病の一つである新潟水俣病が発生しました。次のうち、四大公害病の説明として誤っているものを1つ選び、解答欄の記号を○で囲みなさい。

ア：伊勢湾沿岸の工業都市周辺で発生。石油化学工場から出た^{ありゅう}亜硫酸ガスなどによる大気汚染が原因で、ぜんそくなどの呼吸器の病気を引き起こした。

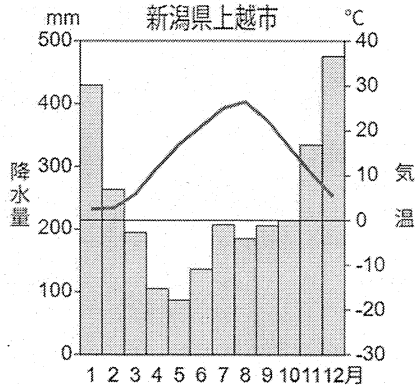
イ：^{じんづうがわ}神通川流域で発生。鉾山から流れ出たカドミウムが原因となり、骨がもろくなり痛みが出る病気を引き起こした。

ウ：^{わたら せがわ}渡良瀬川流域で発生。鉾山から流れ出した^{なまり}硫酸銅や鉛が原因で、手足のしびれなどの神経の病気が起こった。

エ：^{やつしろかい}八代海（^{しらぬいかい}不知火海）沿岸域で発生。工場排水にふくまれるメチル水銀が海に流れ、魚や貝を食べた人に手足のしびれなどの神経の病気を起こした。

- ② 新潟県をふくむ北陸地方や東北地方では、伝統工芸品の生産がさかんです。その理由を、次の資料1・2を参考に、気候に着目して説明しなさい。

資料1 新潟県上越市の雨温図



年平均気温：13.8℃

年降水量：2837.1mm

(雨温図作成サイト)

資料2 米の収穫までのスケジュール

- 3月～4月：田んぼの準備・種もみの準備
- 4月下旬～5月上旬：田植え
- 6月～7月：生育管理（草取り、水の管理など）
- 8月：稲の成長・台風への備え
- 9月～10月：稲刈り、収穫

(新潟県ホームページより作成)

- ③ 信濃川の下流には、広大な水田地帯が広がっています。新潟県内最大であり、日本海に面したこの平野の名称を漢字で答えなさい。

C 千葉県の防災対策

千葉県では、浦安市や市川市などの沿岸部を中心に、液状化を防ぐための地盤改良工事を進めています。また、住民が自ら地域の危険を確認できるように、県の防災サイト「じぶん防災」でハザードマップや避難所情報を公開し、防災訓練などを通して日ごろからの備えを呼びかけています。これらの取り組みにより、災害に強いまちづくりを進めています。

問3 Cのカードの内容について、以下の問いに答えなさい。

- ① 千葉県の自然環境や産業に関する内容として正しいものを次から1つ選び、解答欄の記号を○で囲みなさい。

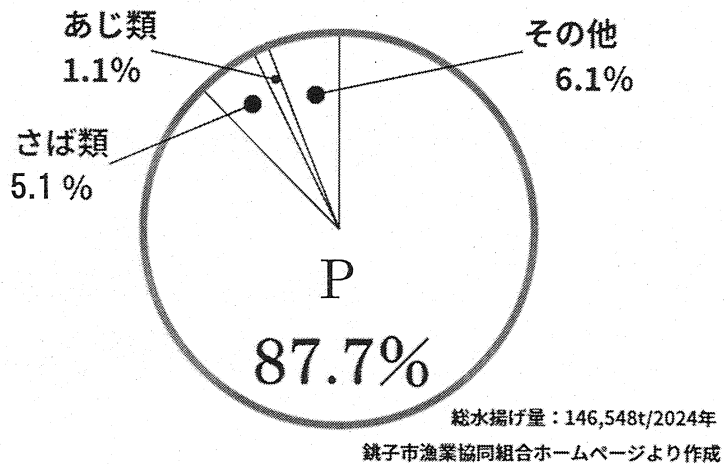
ア：九十九里平野の沿岸にある九十九里浜は日本最大級のリアス海岸である。

イ：千葉県の大部分を占め、太平洋に突き出ている三浦半島では、温暖な気候を生かした農業がさかんである。

ウ：日本の玄関口である成田空港には、石炭や鉄鉱石などの重量の重い製品が世界各地から航空機によって輸送されている。

エ：下総台地は水はけのよい土壌が特徴で、千葉県が全国一の生産量を誇る落花生（ピーナッツ）の栽培に適している。

- ② 次のグラフは、千葉県ちやうしの銚子あ漁港の水揚げ量の内訳を示したものです。グラフのPにあてはまる魚介類を下から1つ選び、解答欄の記号を○で囲みなさい。



ア：いわし類 イ：たい類 ウ：えび類 エ：まぐろ類

- ③ 銚子漁港は、日本で二番目に水揚げ量が多いことで知られています。その理由について説明した次の文の空欄 (A)・(B) にあてはまる語句を答えなさい。

銚子漁港で水揚げ量が多い理由は、暖流の(A)海流と寒流の(B)海流がぶつかる潮目に近く、プランクトンが豊富で魚が多く集まるためです。

- ④ 次の表は、関東地方の都県のうち、人口が200万人を超えている都県の面積と人口を示したものです。千葉県と県境が接していない都県のうち、最も人口が多い都県を次から1つ選び、解答欄の記号を○で囲みなさい。

都県	面積 (km ²)	人口 (人)
千葉	5157	6 256 665
ア	2200	14 085 890
イ	2416	9 228 870
ウ	3798	7 331 377
エ	6098	2 824 595

(『データでみる県勢 2025』)

D 鹿児島県の火山防災

鹿児島県では、活発な火山活動を常に監視しています。活火山の周りに設置されたたくさんの地震計や、火山ガスの測定器を使って、火山の動きを詳しく調べています。観測データはリアルタイムで鹿児島地方気象台に送られ、火山活動の変化がすぐにわかるようになっています。

問4 Dのカードの内容について、以下の問いに答えなさい。

- ① 鹿児島県をはじめ、九州地方は活火山が多い地域として知られています。次の火山のうち、九州地方にある火山はいくつありますか。数字で答えなさい。

うんぜんだけ 雲仙岳	うす 有珠山	浅間山	桜島	あそ 阿蘇山
---------------	-----------	-----	----	-----------

- ② 次の表は、鹿児島県・長崎県・大分県・福岡県の人口密度、豚飼養頭数、まぐろ類漁獲量、製造品出荷額等を示したものです。A～Dに入る県の組み合わせとして正しいものを下のア～カから 1 つ選び、解答欄の記号を○で囲みなさい。

	人口密度 (人/km ²) (2023 年)	豚飼養頭数 (頭) (2024 年 2 月)	まぐろ類漁獲量 (t) (2022 年)	製造品出荷額等 (億円) (2022 年)
A	1023.1	79 800	16	103 315
B	172.9	153 200	1 070	56 034
C	306.7	181 200	4 175	15 718
D	168.6	1 200 000	7 203	24 147

(『データでみる県勢 2025』)

	A	B	C	D
ア	大分県	長崎県	福岡県	鹿児島県
イ	大分県	福岡県	鹿児島県	長崎県
ウ	鹿児島県	長崎県	大分県	福岡県
エ	鹿児島県	大分県	長崎県	福岡県
オ	福岡県	大分県	長崎県	鹿児島県
カ	福岡県	長崎県	大分県	鹿児島県

E 高知県の防災対策

高知県は南海トラフ地震による建物の倒壊が心配されています。そのため、県では古い住宅の耐震診断や改修工事を支援し、住宅の安全性を高める取り組みを進めています。また、大きな地震が起きたときにすぐ医療を受けられるよう、災害時の医療体制づくりや救護訓練も行われています。

問5 Eのカードの内容について、以下の問いに答えなさい。

- ① 高知県では、ビニールハウスや温室を利用し、なすやピーマンなどの夏野菜を冬から春に出荷しています。このような栽培方法を何といいますか。

- ② 高知県では、日照時間が長いことを利用した太陽光発電など、自然環境をいかしたエネルギー利用が進められています。このように、自然の力をくり返し利用できるエネルギーのことを何といいますか。解答欄に合うように漢字で答えなさい。

F 大阪府の防災対策

大阪府が毎年実施している「大阪 880 万人訓練」は、府内全域の約 880 万人を対象とした大規模な防災訓練です。訓練では、緊急速報メールの受信や避難行動の確認、地域の避難所への実際の避難などが行われ、府民一人ひとりが自らの安全を守るための行動を確認し、防災意識を高めることを目的としています。

問 6 F のカードの内容について、以下の問いに答えなさい。

- ① 次の表は、2019 年と 2023 年における、北海道・東京都・京都府・大阪府・和歌山県の日本国内居住者と訪日外国人の旅行消費額を示したものです。この表から読み取れる内容について正しいものを次から 1 つ選び、解答欄の記号を○で囲みなさい。

(単位 十億円)

都道府県	日本国内居住者		訪日外国人	
	2019 年	2023 年	2019 年	2023 年
北海道	1 212	956	289	288
東京都	1 778	1 204	1 539	2 202
京都府	627	557	279	408
大阪府	1 029	875	847	978
和歌山県	178	235	11	13

(『データでみる県勢 2025』)

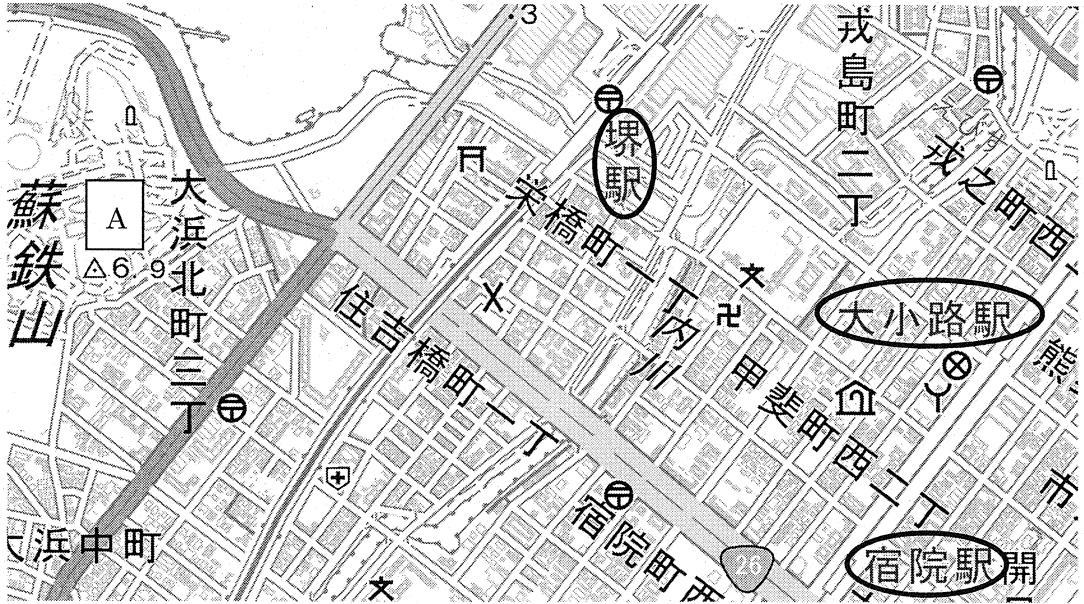
- ア：2023 年の北海道の旅行消費額の総額は、2019 年の東京都の国内居住者の旅行消費額より大きい。
- イ：2019 年と 2023 年を比べたとき、和歌山県における国内居住者の旅行消費額の増加率は、京都府における訪日外国人の旅行消費額の増加率を上回っている。
- ウ：2023 年の東京都における国内居住者の旅行消費額は、2019 年と比べると 7 割に満たない水準にとどまっている。
- エ：大阪府は、2019 年から 2023 年にかけて、国内居住者の旅行消費額と訪日外国人の旅行消費額のどちらも減少している。

② 次の表は、三大工業地帯と関東内陸工業地域の工業出荷額とその内訳（2022年）について示したものです。大阪市や堺市をふくむ工業地帯にあてはまるものを1つ選び、解答欄の記号を○で囲みなさい。

	出荷額 (億円)	金属 (%)	機械 (%)	化学 (%)	食料品 (%)	せんい (%)	その他 (%)
ア	338 405	13.1	43.4	9.7	15.9	0.6	17.3
イ	385 892	22.2	38.1	16.6	10.4	1.0	11.7
ウ	642 765	10.6	68.0	7.2	4.7	0.7	8.8
エ	265 156	10.5	46.1	19.0	11.2	0.6	12.6


(『日本国勢図会 2025/26』)

- ③ 次の地形図は大阪府の堺駅周辺を示したものです。この地形図から読み取れる内容のうち、誤っているものを次から1つ選び、解答欄の記号を○で囲みなさい。ただし、地図の上部を北とする。



(国土地理院地図『電子国土ウェブ』より作成)

- ア：地形図内に標高 100 メートルを超える地点はみられない。
 イ：大小路駅から宿院駅までの線路沿いには、警察署と消防署がある。
 ウ：地形図上にある寺院からみて南東方向には、博物館がある。
 エ：堺駅より西側に、保健所はみられない。
- ④ 地形図の A の地点には、自然災害伝承碑^ひが建てられています。この伝承碑は、安政元年(1854年)に相次いで発生した地震による被害について詳しく記した、堺市で唯一の自然災害伝承碑です。自然災害伝承碑の地図記号を次から1つ選び、解答欄の記号を○で囲みなさい。



- 2 アヤさんは日本人が歴史上どのような衣服を着ていたのかに興味を持ちました。そこで夏休みの自由研究のテーマとして日本の衣服史について調べ、時代ごとにまとめました。これに関連して、あとの問いに答えなさい。

縄文時代・弥生時代

縄文時代の人々は動物の皮や木の皮を縫い合わせて、腰に着けていたと考えられている。さまざまな装飾品そうしよくひんが作られたことは、出土した土偶どぐうなどからわかる。

弥生時代になると、大陸から伝わった機織りはたおの技術で布を織り、貫頭衣かんとういと呼ばれる簡単な衣服を着ていたことが、『魏志倭人伝』の記述にある。



↑ 貫頭衣

- 問1 縄文時代の説明として誤っているものを次から1つ選び、解答欄の記号を○で囲みなさい。


- ア：竪穴住居たてあなを中心として集落に定住する生活が始まった。
- イ：狩りや漁、木の実の採集などで食生活が豊かになった。
- ウ：煮炊きなどの調理や貯蔵ちよぞうのために様々な土器が作られた。
- エ：大陸から伝わった鉄器で農作物の収穫しゅうかくを行っていた。

- 問2 『魏志倭人伝』の記述として正しいものを次から1つ選び、解答欄の記号を○で囲みなさい。

- ア：卑弥呼がまじないの力で30ほどの国をまとめていた。
- イ：中国の皇帝が「漢委奴国王」かんのわのなのこくおうと刻まれた金印きんいんを卑弥呼に授けた。
- ウ：卑弥呼が九州や関東に出かけていき、その土地の人々を従えた。
- エ：邪馬台国は代々女王が治める国だった。

古墳時代

古墳からは、右の写真のような人や動物などをかたどった **A** が出土した。豪族の古墳から出土した **A** から、当時の人々は上下に分かれた服を着て男性は髪を結び、女性はまげを結っていたこと、耳飾りや玉飾りなどを着けていたことがわかる。



↑女性

↑男性

問3 日本国内にある古墳の名称とその所在地の組み合わせとして正しいものを次から1つ選び、解答欄の記号を○で囲みなさい。

- | | |
|-------------|--------------|
| ア：稲荷山古墳—埼玉県 | イ：江田船山古墳—福岡県 |
| ウ：大仙古墳—奈良県 | エ：藤ノ木古墳—青森県 |

問4 文中の **A** にあてはまる語句を答えなさい。

飛鳥時代

聖徳太子（厩戸王）によって古代国家の形成が進み、大陸からすぐれた文化や制度が入ってきた。そのなかでも、能力に応じて役人の位を分け、冠の色によってその階級を示す **B** の制が始まった。またこの時代の衣服は、聖徳太子の妃が作らせたという「天寿国繡帳」にすそが開いたスカート状の着物を着ている女性像が見える。



問5 文中の **B** にあてはまる語句を漢字で答えなさい。


問6 飛鳥時代後期の衣服は、ある古墳の壁画に描かれた人物像からもわかります。右の図の壁画は何という古墳に描かれているか答えなさい。



中1次A

奈良時代

階級や行事によって、服装の形や色がさらに細かく定められていた。服装にも中国の文化が取り入れられ、えりの合わせ方をもとの左前ひだりまえから中国風の右前に直すように命令が出されていた。様々な場面で、中国の影響を受けている。



奈良時代の貴族の衣服→

問7 奈良時代の服装の形や色は、中国にならった法律である律令によって定められました。次の律令の規定に関するⅠ・Ⅱの文の正誤の組み合わせとして正しいものを下から1つ選び、解答欄の記号を○で囲みなさい。

Ⅰ：地方の特産物を納める租そについて定めている。

Ⅱ：都や九州などの警備をする兵士について定めている。

ア：Ⅰ－正	Ⅱ－正	イ：Ⅰ－正	Ⅱ－誤
ウ：Ⅰ－誤	Ⅱ－正	エ：Ⅰ－誤	Ⅱ－誤


問8 奈良時代に中国からやってきた人物に鑑真がいます。鑑真が開いた寺院として正しいものを次から1つ選び、解答欄の記号を○で囲みなさい。

ア：延暦寺 <small>えんりやく</small>	イ：唐招提寺 <small>とうしょうだい</small>	ウ：東大寺	エ：法隆寺 <small>ほうりゅう</small>
----------------------------	-------------------------------	-------	----------------------------

平安時代

大陸文化の影響を受けていた時代から、日本の風土や生活にあった国風文化が花開き、より日本人の心情を表現することができるようになった。衣服も日本の風土にあった、ゆったりとした優雅な和風の着物が広まった。

下の写真は、左は男性の正装である束帯で、右は女性の正装である を描いている。



問9 国風文化の例として正しいものを次から1つ選び、解答欄の記号を○で囲みなさい。

ア：日本の風景を描いた水墨画が多く描かれた。

イ：日本人の心情を歌った歌が『万葉集』にまとめられた。


ウ：紫式部の『源氏物語』などすぐれた文学作品が生まれた。

エ：畳やふすまをともなった日本風の書院造が広まった。

問10 文中の にあてはまる言葉を漢字3字で答えなさい。

鎌倉時代・室町時代

鎌倉幕府が成立し、武家政権が誕生すると、武士らしい活動的な衣服が好まれるようになった。もともとは庶民の活動着だった水干や直垂が普及し、やがて正装となる。武士は戦場で戦功をあげて恩賞を手にするために戦ったが、手がらを立てたときにそれが誰なのか見分けがつくよう、よろいや衣服に凝ったデザインを好んだ。その代表的なものは右の図の『蒙古襲来絵詞』である。これを描かせた は、モンゴルの襲来に対して戦った手がらをうつたえる手段としてこの絵を描かせた。



『蒙古襲来絵詞』→

問11 鎌倉時代や室町時代の説明として誤っているものを次から1つ選び、解答欄の記号を○で囲みなさい。

- ア：鎌倉幕府の源氏の将軍はわずか3代でとだえた。
- イ：鎌倉時代、御家人たちが都や鎌倉の警備を行うことを奉公とよぶ。
- ウ：室町幕府は、現在の関東地方に開かれた。
- エ：室町時代、能や狂言といった芸能が広まった。

問12 文中の にあてはまる人名を漢字で答えなさい。

安土桃山時代・江戸時代

この時代の衣服は、男女ともに小袖が主流になった。小袖は平安時代の下着がもとで、袖口が小さい特徴があった。豪華で派手な桃山文化が花開くと華麗で美しく染められた小袖が発達した。

江戸時代には、町人のなかには経済力をつけ、ぜいたくをする者もあらわれたので、江戸幕府はたびたびぜいたくを禁止する法令を出したが、効果はなかった。



問13 安土桃山時代の説明として正しいものを次から1つ選び、解答欄の記号を○で囲みなさい。

- ア：織田信長はキリスト教を禁止し、日本人が海外に渡るのも禁止した。
- イ：豊臣秀吉は、武士と町人・百姓の身分をはっきりと区別した。
- ウ：天草四郎を中心として、キリスト教徒たちの反乱が起こった。
- エ：大塩平八郎は、ききんで苦しんでいる人々を救うため大阪で兵をあげた。


問14 経済力をつけた町人の例として、呉服店を営み「現金かけ値なし」という新商法により栄えたのは何家ですか。次から1つ選び、解答欄の記号を○で囲みなさい。

- | | | | |
|-------|-------|-------|-------|
| ア：井伊家 | イ：住友家 | ウ：鴻池家 | エ：三井家 |
|-------|-------|-------|-------|

問15 江戸時代の後半、岡山藩で「服装は渋や藍で染めた模様のない木綿の着物にせよ」という内容を含む厳しい儉約令が出されたことに対し、たくさんの村から千数百人以上の人々が立ち上がったため、その命令は実行できなくなりました。このできごとを何一揆といいますか。

明治時代

明治維新後、新政府は欧米の文化を積極的に取り入れた。役人の制服はそれまでの直垂をやめ、洋服を着ることが定められた。下の図のように、外国との社交場であった鹿鳴館^{ろくめい}では、毎晩のようにパーティーが開かれ、男性は燕尾服^{えんび}、女性はドレスを身にまとった。日常の服装は、男性は洋服の場合と和服の場合と両方あったが、女性は和服が多かった。



問16 鹿鳴館の人々が欧米の衣服を身につけ、パーティーを開いて西洋化につとめたのは、明治政府が当時かかえていた課題を解決するためです。その西洋化につとめた目的とは何ですか。具体的に説明しなさい。

問17 明治政府の政策として正しいものを次から1つ選び、解答欄の記号を○で囲みなさい。

ア：地租改正を実施し、収穫高の3%を納めさせた。

イ：徴兵令を出し、20歳以上の男子は軍隊に入ることを義務付けた。

ウ：日米修好通商条約を結び、下田・函館の2港を開港した。

エ：かつての藩を廃止して、新たに知事を任命する版籍奉還を実施した。

大正時代・昭和時代

大正時代になると、一般の人々にも洋服姿が広まった。モボ（モダンボーイ）やモガ（モダンガール）と呼ばれる洋服姿の男女が銀座などの^{はんかがい}繁華街を歩いた。

一方、昭和時代になると、日本は戦争の時代に入った。戦争中は物資が不足し、人々は手持ちの衣類を再利用した。女性はみな和服を再生した^{つつそで}筒袖の上着と「もんぺ」を組み合わせせて着た。



↑帽子をかぶったモガ

↓もんぺ姿の女性



(写真の出典：『タテ割り日本史2 衣服の歴史』（講談社）

問18 大正時代はモガのように女性が社会に進出していった時代です。この時期に、女性の地位向上を目指す運動に取り組み、「元始、女性は太陽であった」という言葉を残したことで知られる人物は誰ですか。

問19 昭和時代に起こった出来事A～Dを古いものから時代順に並びかえたものとして正しいものを下のア～エから1つ選び、解答欄の記号を○で囲みなさい。

A：ドイツのポーランド^{しんこう}侵攻をきっかけに第二次世界大戦が始まった。

B：北京の近くで日本軍と中国軍が衝突^{しょうとつ}し、日中戦争が始まった。

C：日本が国際連盟を脱退した。

D：アメリカ軍の日本本土への空襲^{くうしゅう}が始まった。

ア：A→B→C→D

イ：C→B→A→D

ウ：A→C→D→B

エ：C→A→B→D

- 3 次の2025年のできごとについてまとめたA～Cの文章を読んで、それぞれあとの問いに答えなさい。

A

4月13日から10月13日までの約6か月間、(a)大阪・関西万博(正式名称: 2025年日本国際博覧会)が大阪市の夢洲で開催されました。この万博の招致活動は、2017年から始まりました。2018年に開催が決定すると、(b)内閣に国際博覧会担当大臣(万博担当の大臣)が置かれました。2019年には国・(c)地方公共団体・経済界の協力のもと日本国際博覧会協会が設立され、開催の準備が進められてきました。

今回の万博のテーマは「いのち輝く未来社会のデザイン」でした。また、この万博のめざすものとして(d)持続可能な開発目標(SDGs)達成への貢献などもうたわれました。

開催期間中、健康や医療、環境、持続可能な社会について世界中の国や企業が展示やイベントを通じて発信し、(e)未来に向けて新しい技術やアイデアを共有しました。

- 問1 下線部(a)について、今回の大阪での万博の開催は前回大阪での開催から何年ぶりとなりますか。正しいものを次から1つ選び、解答欄の記号を○で囲みなさい。

ア: 20年 イ: 35年 ウ: 40年 エ: 55年

- 問2 下線部(b)に関係することがらについて説明した次の文章のうち、誤っているものを1つ選び、解答欄の記号を○で囲みなさい。

ア: 内閣総理大臣は国会で指名され、天皇が任命する。

イ: 内閣は法律案や予算を作成し、国会に提出する。

ウ: 内閣総理大臣は閣議を開き、その議決方法は多数決である。

エ: 内閣は最高裁判所の長官を指名し、裁判官を任命する。

- 問3 下線部(c)の政治やしくみについて説明した次の文章のうち、誤っているものを1つ選び、解答欄の記号を○で囲みなさい。

ア: 地方公共団体の長(首長)と議会の議員はそれぞれ別の選挙で選出される。


イ: 議会は首長に対して不信任の議決を行うことができるが、首長は議会を解散することはできない。

ウ: 地方公共団体が行う仕事やそのために必要な費用は、住民などが納めた税金のほかに国などからの補助金が使われることがある。

エ: 議会は条例を制定したり、地方公共団体独自の税金を決めたりすることができる。

問4 下線部(d)について、SDGsは2015年9月の国連サミットで採択された2030年までに持続可能でより良い世界を目指す国際目標で17のゴールと169のターゲットから構成されています。今回の万博の日本館には「循環」をテーマとした展示がありました。これに関連する12番目の目標として正しいものを次から1つ選び、解答欄の記号を○で囲みなさい。

- ア：つくる責任つかう責任
- イ：働きがいも経済成長も
- ウ：エネルギーをみんなにそしてクリーンに
- エ：気候変動に具体的な対策を



問5 下線部(e)について、現在、生成 AI などの技術の進歩がめざましいです。AI は日本語で何といいますか。漢字4字で答えなさい。

B

第27回(f)参議院議員選挙が7月20日に実施されました。選挙戦は、規定通りの改選議席分と、議席に欠員があり、その補充のための1議席を加えた(g)議席をめぐる争いとなりました。各政党は、様々な公約を掲げて選挙戦を展開します。今回の選挙では、最近の物価高対策として、(h)消費税の減税や廃止、現金給付などを公約とする政党が多くみられました。投票日は三連休のあいだの日に設定されました。そのため投票日当日に、仕事や旅行などで投票所へ行くことができない場合に事前に投票できる(i)制度を利用した人はおよそ2618万人で、(j)前回の参議院議員選挙と比べて656万人あまり増え、衆議院議員選挙を含めた国政選挙で過去最多になりました。

問6 下線部(f)について、参議院議員に立候補できる年齢と同じ職として正しいものを次から1つ選び、解答欄の記号を○で囲みなさい。

- ア：市町村長
- イ：市町村議会議員
- ウ：都道府県知事
- エ：都道府県議会議員

問7 文章中の空欄(g)に当てはまる数字として正しいものを次から1つ選び、解答欄の記号を○で囲みなさい。

- ア：125
- イ：248
- ウ：289
- エ：465

問8 下線部(h)について、消費税などの税金を管理する国税庁をかかえ、国の予算編成などに大きな役割を果たす省を漢字で答えなさい。

問9 文章中の空欄(i)に当てはまる語句として正しいものを次から1つ選び、解答欄の記号を○で囲みなさい。

ア：在外投票 イ：期日前投票 ウ：不在者投票 エ：郵便投票

問10 下線部(j)について、この参議院議員選挙が実施されたのはいつですか。
西暦で答えなさい。

C

8月15日、日本は80回目の終戦記念日を迎えました。80年前の1945年、8月6日と8月9日にはアメリカによって(k)原子爆弾が広島と長崎に投下され、ついに8月15日、昭和天皇がラジオで日本の降伏を国民に伝えました。戦争に敗れた日本はアメリカを中心とする連合軍に占領されました。この中で民主的な国としての基本を示した日本国憲法が作られました。憲法には、戦争の反省から、(l)戦争放棄(平和主義)という内容が盛り込まれただけでなく、(m)国民主権、(n)基本的人権の尊重もうたわれました。

戦後80年もの歳月が経過し、日本の社会は大きく変わりました。(o)それとともに変化をしていくものもあります。長い歳月の中で、戦争を直接体験した世代が年々少なくなっています。戦争の記憶や教訓をどのように次世代へ伝えていくかが大きな課題となっています。

問11 下線部(k)について、日本は唯一の被爆国として国として「核兵器をもたない、つくらない、()」という非核三原則を宣言しています。()にあてはまる語句を答えなさい。

問12 下線部(l)の内容は、憲法第9条に述べられています。次の文章は、憲法第9条の第一項の一部です。()の中に当てはまる語句を漢字2字で答えなさい。なお()内には同じ語句が入ります。

第一項 (略)…国権の発動たる戦争と、()による威嚇または()の行使は、国際紛争を解決する手段として、永久にこれを放棄する。

問13 下線部(m)の国民主権にかかわることについて説明した次の文章のうち、誤っているものを1つ選び、解答欄の記号を○で囲みなさい。

ア：最高裁判所の裁判官のうち、やめさせたほうがよいと思う裁判官を選ぶ投票を行う。

イ：憲法の改正は、国民の発議で行う。

ウ：自分の住んでいる市町村の条例の制定や改正を請求する。

エ：国会議員や地方の議会の議員を選出する。

問14 下線部(n)について、基本的人権を尊重するため、憲法にもとづいてさまざまな法律が制定されています。下には3つの法律とその法律内容の説明文が示されています。法律の説明文を参考にして、基本的人権の尊重のうち、「平等権」と最も関係のある法律の組み合わせとして正しいものを1つ選び、解答欄の記号を○で囲みなさい。

A：男女雇用機会均等法…雇われる際に男女に均等な機会、地位、給与の条件の確保を求める。

B：障害者差別解消法…障がいや理由に差別することを禁止し、すべての国民がともに生きる社会の実現をめざす。

C：生活保護法…国が生活に困っている人に健康で文化的な最低限度の生活を保障する。

ア：AとB

イ：AとC

ウ：BとC

エ：AとBとC

問15 下線部(o)について、私たちの権利も時代とともに変化をしていきます。昨今新しい人権として認められてきているものとして「自分のことを、どこまでだれに知らせるかを自分で決められる権利」があります。この権利のことを何といいますか。下の空欄に合うようにカタカナ6字で答えなさい。

□□□□□□の権利

1	問1	①	アイウエオカ	
		②	半島	
		③	アイウエ	
		④	アイウエオカ	
	問2	①	アイウエ	
		②		
		③	平野	
		問3	①	アイウエ
	②		アイウエ	
	③		A	海流
			B	海流
	④	アイウエ		
	問4	①	つ	
②		アイウエオカ		
問5	①			
	②	エネルギー		
問6	①	アイウエ		
	②	アイウエ		
	③	アイウエ		
	④	アイウエオ		

2	問1	アイウエ
	問2	アイウエ
	問3	アイウエ
	問4	
	問5	
	問6	古墳
	問7	アイウエ
	問8	アイウエ
	問9	アイウエ
	問10	
	問11	アイウエ
	問12	
	問13	アイウエ
	問14	アイウエ
	問15	一揆
	問16	
問17	アイウエ	
問18		
問19	アイウエ	

3	問1	アイウエ
	問2	アイウエ
	問3	アイウエ
	問4	アイウエ
	問5	
	問6	アイウエ
	問7	アイウエ
	問8	省
	問9	アイウエ
	問10	年
	問11	
	問12	
	問13	アイウエ
	問14	アイウエ
	問15	

合 計	
--------	--