

令和 8 年度

帝塚山学院泉ヶ丘高等学校

入学者選抜試験問題

1 次・帰国生入試

社会


(試験時間 40 分)

受験番号	
------	--

- 1 昨年開催された大阪・関西万博では、158の国・地域および7つの国際機関のパビリオンが開設された。次の1～10は、万博のパビリオンに参加した主な国々である。これらをもとに、あとの問いに答えよ。

【主な海外パビリオン参加国】

1. アメリカ合衆国
2. トルコ
3. マレーシア
4. 中華人民共和国
5. オランダ
6. イタリア
7. オーストラリア
8. ペルー
9. サウジアラビア
10. インド



写真：朝日新聞 4月12日記事より

問1 次のA～Cの説明にあてはまるパビリオンの国を、上の1～10の番号からそれぞれ選び、解答欄の番号を○で囲め。

A：民族衣装のポンチョを着たスタッフが迎え、古代ナスカ文化の遺物や、豊かな自然、食文化を発信した。

B：ミケランジェロの彫刻「キリストの復活」など、主要な芸術作品が展示されており、最先端技術や食文化も紹介された。

C：近年はハイテク産業が発達し、「世界の工場」と呼ばれるまで成長したこの国の歴史と最新技術の展示が楽しめる。展示の目玉は「月の裏側の砂」である。

問2 上の1～10のどの国も属していない州を次のア～エから1つ選び、解答欄の記号を○で囲め。

ア：オセアニア州      イ：アフリカ州      ウ：南アメリカ州  
エ：ヨーロッパ州

問3 アメリカ合衆国について、次の問いに答えよ。

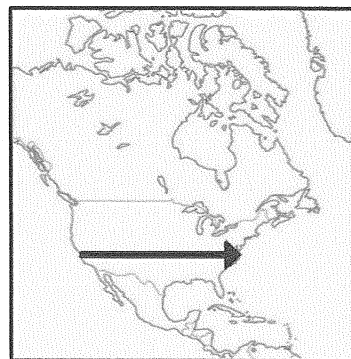
- ① 右の地図中の矢印の方向にアメリカ合衆国を横断したときに通過する地形の順として正しいものを次のア～エから1つ選び、解答欄の記号を○で囲め。

ア：アパラチア山脈→プレーリー→グレートプレーンズ  
→ミシシッピ川→ロッキー山脈

イ：アパラチア山脈→グレートプレーンズ→プレーリー  
→コロラド川→ロッキー山脈

ウ：ロッキー山脈→プレーリー→グレートプレーンズ  
→コロラド川→アパラチア山脈

エ：ロッキー山脈→グレートプレーンズ→プレーリー  
→ミシシッピ川→アパラチア山脈



- ② 図中の矢印は、北緯37度線とほぼ同じ所を通っている。アメリカ合衆国では、1970年代以降に北緯37度線より南の地域に工場進出が進んだ。工場進出が進んだこの地域を何と呼ぶか。

問4 次の表は、アメリカ合衆国・インド・中華人民共和国・イタリア・オーストラリア・サウジアラビアのうちのいずれかの国の輸出品目の総輸出額に占める割合(%)と総輸出額(百万ドル)を示したものである(統計は2023年)。アメリカ合衆国・インド・イタリアの組み合わせとして正しいものを下のア～カから1つ選び、解答欄の記号を○で囲め。

A		B		C	
機械類	22.0	原油	52.7	機械類	40.5
自動車	7.3	石油製品	18.2	自動車	5.9
原油	5.8	プラスチック	7.9	衣類	4.9
石油製品	5.6	化学薬品	5.7	金属製品	4.2
医薬品	4.9	液化石油ガス	2.3	繊維と織物	4.0
総輸出額	2 019 542	総輸出額	322 256	総輸出額	3 380 024
D		E		F	
石油製品	19.7	鉄鉱石	24.5	機械類	24.1
機械類	14.6	石炭	18.3	医薬品	7.7
医薬品	5.4	液化天然ガス	13.4	自動車	7.5
化学薬品	4.8	金(非貨幣用)	5.1	衣類	4.5
自動車	4.6	穀物	3.7	鉄鋼	3.7
総輸出額	432 001	総輸出額	370 866	総輸出額	676 963

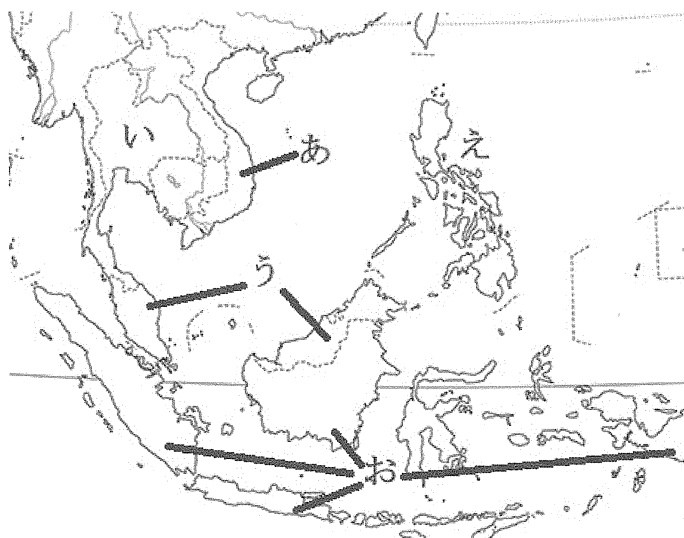
出典：『2025 データブック オブ・ザ・ワールド』

	アメリカ合衆国	インド	イタリア
ア	A	E	D
イ	A	D	F
ウ	A	E	B
エ	C	D	F
オ	C	E	D
カ	C	D	B

問5 次の表は、マレーシアを含む東南アジアの国々の人口（2024年）・面積（2023年）・最も信仰者数の多い宗教と総人口に占める信者の割合（各国における最近年の推計）、旧宗主国を示したものである。表中のA～Eには下の地図中のあ～おのいずれかの国があてはまる。表中のCとEにあてはまる国の名前を答え、その位置を地図中のあ～おからそれぞれ選び、解答欄の記号を○で囲め。

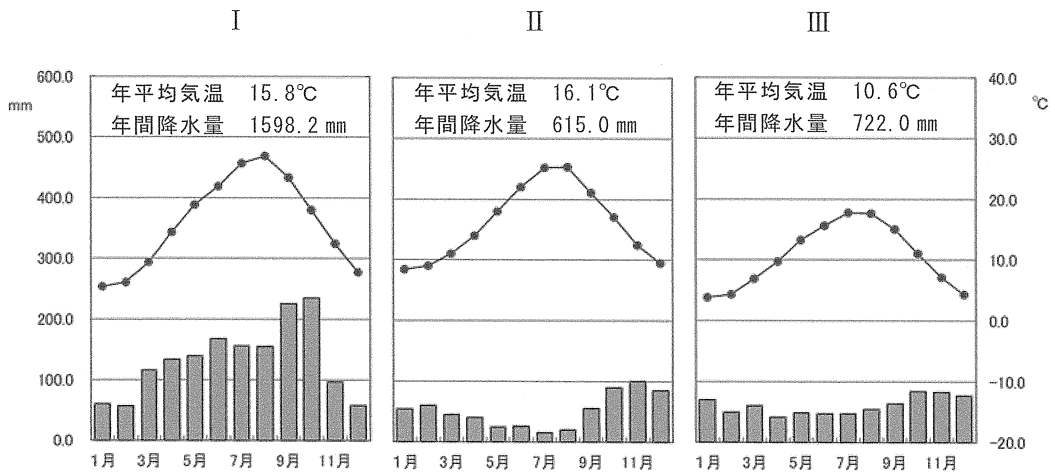
	人口 (千人)	面積 (千km <sup>2</sup> )	最も信仰者数の多い宗教と総人口に占める信者の割合	旧宗主国 〔植民地を統治・支配する立場の国〕
A	283 488	1892	イスラム教 87%	オランダ
B	115 844	300	キリスト教 93%	スペイン アメリカ合衆国
C	35 558	331	イスラム教 60%	イギリス
D	71 668	513	仏教 83%	なし
E	100 988	331	仏教 8%	フランス

出典：『2025 データブック オブ・ザ・ワールド』ほか



問6 オランダは、自転車の普及促進や環境税を設けるなど環境先進国として知られているが、その背景の1つに「地理的な特徴」が挙げられる。この「地理的な特徴」を具体的に述べた上で、環境先進国である理由について簡単に説明せよ。

問7 次のⅠ～Ⅲは、オランダ・イタリア・日本の首都の雨温図である。Ⅰ～Ⅲの雨温図の組み合わせとして正しいものを下のア～カから1つ選び、解答欄の記号を○で囲め。



climate-data・気象庁ホームページをもとに作成

- |          |        |        |
|----------|--------|--------|
| ア：Ⅰ…オランダ | Ⅱ…イタリア | Ⅲ…日本   |
| イ：Ⅰ…オランダ | Ⅱ…日本   | Ⅲ…イタリア |
| ウ：Ⅰ…イタリア | Ⅱ…オランダ | Ⅲ…日本   |
| エ：Ⅰ…イタリア | Ⅱ…日本   | Ⅲ…オランダ |
| オ：Ⅰ…日本   | Ⅱ…イタリア | Ⅲ…オランダ |
| カ：Ⅰ…日本   | Ⅱ…オランダ | Ⅲ…イタリア |

問8 下の表は、中華人民共和国・アメリカ合衆国・インド・EU（27 各国）・日本の 1990 年・2020 年・2022 年の主な温室効果ガス排出量を示したものである。この表から読み取れる内容として正しいものを下のア～エから 1 つ選び、解答欄の記号を○で囲め。

温室効果ガス排出量（百万 t）			
	1990 年	2020 年	2022 年
中華人民共和国	2 515	10 722	11 378
アメリカ合衆国	5 128	4 725	5 102
インド	689	2 324	2 748
EU（27 各国）	3 612	2 487	2 607
日本	1 058	999	986
世界計	23 961	35 879	38 371

出典：『世界国勢図会 2025/26』

（※ EU は、2024 年時点の加盟国の合計でさかのぼって算出された値）

- ア：1990 年から 2020 年にかけて温室効果ガス排出量の増加率が最も高い国はインドである。
- イ：2020 年と 2022 年の温室効果ガス排出量を比較すると、この 2 年でもっとも温室効果ガス排出量が増えた国は中国である。
- ウ：2022 年の世界の温室効果ガス排出量に占める EU（27 各国）の温室効果ガス排出量の割合は、2020 年のインドの同割合と比べて低い。
- エ：1990 年と 2022 年を比較して、2 番目に温室効果ガス排出量を減らした国はアメリカである。

問9 オーストラリアについて述べた次の文の P・Q について、その正誤の組み合わせとして正しいものを下のア～エから 1 つ選び、解答欄の記号を○で囲め。

P：面積は 769 万km<sup>2</sup>で世界第 6 位の面積をもつ。古くからマオリと呼ばれる先住民が生活をしている。

Q：国土の大部分が乾燥帯であるが、北部に亜寒帯（冷帯）、南東部・南西部に温帯が分布している。

ア：P…正	Q…正	イ：P…正	Q…誤
ウ：P…誤	Q…正	エ：P…誤	Q…誤

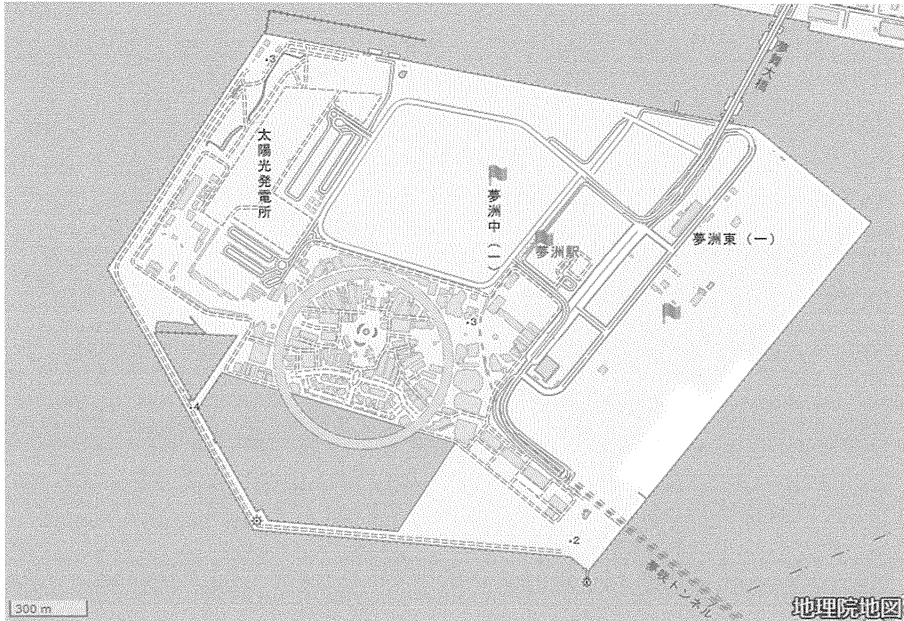
問10 次の表は、米・小麦・とうもろこし・茶の生産量の多い上位 5 か国（2023 年）を示したものである。A～E には 1～10 のパピリオンの国のいずれかがあてはまる。A・B・C にあてはまる国の組み合わせとして正しいものを下のア～エから 1 つ選び、解答欄の記号を○で囲め。

	米	小麦	とうもろこし	茶
1 位	B	A	C	A
2 位	A	B	A	B
3 位	バングラデシュ	ロシア	ブラジル	ケニア
4 位	インドネシア	C	アルゼンチン	スリランカ
5 位	ベトナム	D	B	E

出典：『世界国勢図会 2025/26』

	A	B	C
ア	アメリカ合衆国	インド	中華人民共和国
イ	アメリカ合衆国	中華人民共和国	インド
ウ	中華人民共和国	アメリカ合衆国	インド
エ	中華人民共和国	インド	アメリカ合衆国
オ	インド	中華人民共和国	アメリカ合衆国
カ	インド	アメリカ合衆国	中華人民共和国

問11 下の地形図は、大阪・関西万博の舞台となった夢洲である。これを見て、次の問いに答えよ。



- ① 夢洲は阪神工業地帯に位置する人工島で、製造業を中心とした従来の工業地帯とは異なり、コンテナターミナルや先端技術の拠点となっている。阪神工業地帯について説明した次の文章の **a・b** から適切なものをそれぞれ 1 つ選び、解答欄の記号を○で囲め。

阪神工業地帯は、明治時代にせんい工業が発達し、戦前は日本最大の工業地帯であったが、現在は生産額が伸び悩んでいる。他の工業地帯・地域よりも **a** (ア：金属・化学工業 イ：機械・食料品工業) の総生産額に占める割合が高く、**b** (ウ：大工場 エ：中小工場) が多いのが特色である。

- ② 夢洲はゴミの焼却灰や建設残土で造成された人工島であるため、地震時に土の粒子の結合がなくなり、水に浮いた状態となる□□□現象が懸念されている。□□□にあてはまる語句を漢字 3 字で答えよ。
- ③ 地形図にある大屋根リングの実際の直径 (内径) は約 675m である。地形図の縮尺が 2 万 5 千分の 1 であるとする、地形図上の大屋根リングの円周は何cmか。円周率は 3.14 とし、小数第二位を四捨五入して数字で答えよ。  
(※上の地形図は編集上、実際の地形図と縮尺が異なっている。)

- 2 次の文は日本の土地に関する歴史について述べたものである。それぞれの文を読んで、あとの問いに答えなさい。

現在、日本の国土全体のおよそ 5 割から 6 割程度が私有地となっており、その他の土地は国有地や公有地となっている。歴史的にみると、土地というものが誰のものかということは、各時代で大きな問題となってきた。

古代の日本では、初め各地域の有力者がその土地と人民の所有権を持つという単純なかたちの土地支配がおこなわれていた。その後ヤマト王権が拡大していく時期には、多くの地方有力者がヤマト王権支配下の豪族となったが、その土地支配のかたちは変わらなかった。7 世紀の中頃、 が起こるとこの状況が変化していく。この出来事があった翌年、土地と人民の所有権を大王(天皇)のものとするという詔が出され、これによって個人の土地所有は原則としてなくなることとなった。しかし、奈良時代には人口の増加に対して農地が不足するという事態が生じてしまったため、朝廷は限定的な土地の個人所有を認め始めた。

- 問 1 空欄  にあてはまる出来事について述べた文として正しいものを次のア～エから 1 つ選び、解答欄の記号を○で囲め。

- ア：6 歳以上の男女に土地を給付し、その土地の大きさに応じて課税した。
- イ：仏教や儒学の教えなどを明記し、役人の守るべき心構えを示した。
- ウ：仏教の力によって国家を守ろうと、全国に寺院を建立した。
- エ：政治権力を天皇に集中させ、日本で初めての元号もつくられた。

- 問 2 古代の世界について述べた文として誤っているものを次のア～エから 1 つ選び、解答欄の記号を○で囲め。

- ア：ギリシャのアテネは非常に強い国王の権力により支配されていた。
- イ：ローマ帝国は帝国各地に水道や浴場施設などを建設した。
- ウ：中国の殷時代の政治は甲骨文字による占いで行われていた。
- エ：インドではシャカが悟りによる身分に関わらない救いを説いた。

問3 ヤマト王権について述べた次の文の X・Y について、その正誤の組み合わせとして正しいものを下のア～エから 1 つ選び、解答欄の記号を○で囲め。

X : 魏の皇帝から親魏倭王の称号を与えられた。

Y : 朝鮮半島南部の伽耶地方と密接な関係を築いた。

ア : X…正	Y…正	イ : X…正	Y…誤
ウ : X…誤	Y…正	エ : X…誤	Y…誤

問4 日本で天皇の称号が使用され始めたのは天武天皇の時代であるという説がある。天武天皇は皇太子時代に天皇の位をかけた争いに勝利したあと、天皇として即位した。この争いを何というか。4字で答えよ。

問5 奈良時代に出された土地所有に関する法令 X・Y と、法令を出した人物に関する説明 i・ii の組み合わせとして正しいものを、下のア～エから 1 つ選び、解答欄の記号を○で囲め。

X

天平十五(743)年、天皇が命じて言うことには、「聞くところによると、墾田は、養老7年の規定によって、期限が満ちた後には国家に収受される。そのため、農民はなまけ、せつかく土地を開墾してもまた荒廃してしまう。今後は、自由に個人の私財として三世一身を論じることなく国家が没収しないようにせよ。…」  
『続日本紀』

Y

養老七(723)年四月、太政官が奏上することには、「近頃、人口が次第に増加して、田や池が不足しております。国内の人々に田地の開墾を勧めたいと思います。新たに灌漑設備や池をつくり、田地を開墾したものには、その開墾地の広さに関わらず、三代にわたる所有を認め、もし既存の灌漑設備などを利用した場合には本人一代のみの所有を許可したいと思います。…」  
『続日本紀』

i : 大仏造立の詔を出した。

ii : 平城京に遷都した。

ア : X… i	イ : X… ii	ウ : Y… i	エ : Y… ii
----------	-----------	----------	-----------

平安時代、律令制度のしくみがくずれ、地方の治安が悪化していく中で、土地所有者は自身の土地の権利を守ろうと、有力貴族や寺社と関係を結び、土地の権利を保証しようとした。これによって、全国の土地の支配権は、少数の都の有力者に集中するようになった。

しかし、武士が台頭し、武家政権が成立すると、武家政権による荘園の侵略が始まった。鎌倉幕府は全国に地頭を任命していき、各地の荘園からも税を徴収するようになる。地頭の設置は当初、東日本中心であったが、幕府と朝廷の戦いをきっかけに西日本にも広がっていった。この時期にも依然として有力貴族の荘園は存在したが、次第に土地の支配権は武家が優勢になっていく。

鎌倉時代末期から室町時代にかけて、荘園内の各村では自治を求める動きが起こり、このようななかで、領主の支配に対して反発する一揆などが多発していった。□ B □の時代になると、このような複雑な土地支配の形は整理されることとなった。彼は一地一作人の原則を出し、土地の所有者は実際にその土地を現地で耕作しているもののみとするという原則を打ち出した。これによって、平安時代以降の複雑な土地の権利関係は終焉<sup>しゆうえん</sup>することとなった。

問6 空欄□ B □にあてはまる人物がおこなった全国的な土地測量を何というか。

漢字4字で答えよ。

問7 以下の史料は平安時代初期の出来事を記述している。この史料中の将軍とは誰のことか。漢字で答えよ。なお、史料は問題作成の都合上、改変しているところがある。

延暦二十一(802)年夏四月、・・・将軍から「阿豆流為・母礼らが五百人余りの仲間を率いて降服しました」と報告があった。

・・・阿豆流為・母礼などを斬首とする。この二人は奥地の賊のかしらである。二人を斬るとき、将軍などが「彼らを故郷に帰すべきである」と申した。これに対し、公卿<sup>くぎょう</sup>たちが議論をして「これらは獣のような心を持った人物である。もし、奥地に放免すれば、虎を養い危険を残すようなものである。」として、彼らは河内国で斬首された。

『日本後紀』

問8 律令制度の仕組みが崩れていく時代、飛鳥時代から続いた遣唐使の廃止も決断された。末期の遣唐使として唐に渡り、天台宗を日本で広めた人物が比叡山に建てた寺院を何というか。漢字で答えよ。

問9 平安時代の地方の治安悪化は武士の登場を促し、武士団が登場した。これに関連して歴史上の武士の反乱について述べた文として正しいものを次のア～エから1つ選び、解答欄の記号を○で囲め。

ア：藤原純友は関東一帯を制圧し新皇と称して関東の独立を画策した。

イ：平清盛は源義朝とともに挙兵し、後白河天皇の信頼を得た。

ウ：北条氏の権力集中に反発した竹崎季長などが挙兵し、鎌倉幕府は滅亡した。

エ：享保の改革によりききんが拡大したことに対して、江戸で大塩平八郎が反乱を起こした。

問10 地頭による荘園侵略が起こるなかで、地頭と荘園領主が土地を半分ずつに分けて支配するという妥協的な解決方法も取られるようになった。このような方法を何というか。漢字で答えよ。

問11 鎌倉時代、地頭の設置はある戦乱のあとに西日本に拡大していった。この戦乱を何というか。4字で答えよ。

問12 室町時代には一揆が頻発するが、そのうち、加賀で起こった一揆は守護大名を倒し、100年間にわたる自治を実現したことで知られる。この一揆の中心となった宗教教団(宗派)を開いた人物は誰か。次のア～エから1つ選び、解答欄の記号を○で囲め。

ア：一遍	イ：法然	ウ：日蓮	エ：親鸞
------	------	------	------

江戸時代には、石高制という制度が実施され、国の税制度の基礎は農地からの生産物とされた。農地の重要性が増すなかで、人口の増加も相まって、農地の拡大が図られた。このようななかで、18世紀前半の  の頃までには、農地は江戸幕府の開かれる前と比べて約2倍程度まで拡大した。

この時期には農業技術も進歩し、農業生産力の向上もみられた。このことは農村への貨幣経済の浸透を促し、土地を手放した小作人や、土地を買い取り増やしていく地主などの存在を生み、農村内での貧富の差を拡大させる結果につながった。

明治維新後には、政府は欧米流の国家運営の方法を学び、国の税の基本を農業生産物ではなく、土地の評価額を基準とした現金納とした。昭和初期に起こった世界恐慌の際には、深刻な不況の影響で土地の売却などが相次ぎ、地主層の土地への支配力はさらに向上した。

第二次世界大戦後、連合国の統治下となった日本では、GHQによる様々な改革が行われた。その中で土地改革なども行われ、日本の旧来の地主制が解体された。これにより、個人による土地所有が拡大した。

問13 空欄  にあてはまる人物は米将軍とも呼ばれ、新田開発を奨励するなど、幕府財政の立て直しに努めた人物である。この人物がおこなった政策として正しいものを次のア～エから1つ選び、解答欄の記号を○で囲め。

ア：株仲間による営業の独占を禁止し、解散させた。

イ：江戸に出稼ぎに来ている農民を強制的に農村に帰らせた。

ウ：大名に、1万石につき100石の米を幕府に納入させた。

エ：幕府の学問所で朱子学以外の学問を研究することを禁止した。

問14 農業技術の進歩について述べた文として正しいものを次のア～エから1つ選び、解答欄の記号を○で囲め。

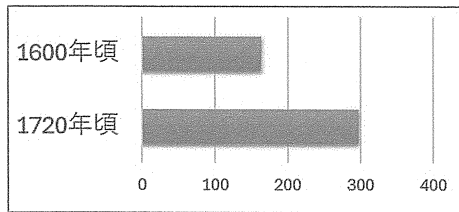
ア：奈良時代、鉄製の農具の使用が始まった。

イ：平安時代、肥料を購入することが一般的となった。

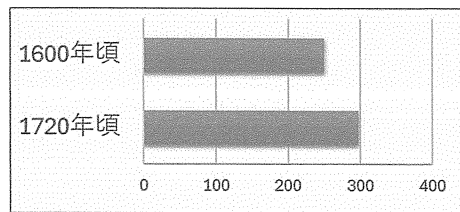
ウ：鎌倉時代、近畿地方を中心に二毛作が普及した。

エ：江戸時代、備中ぐわの開発により効率的な脱穀が可能となった。

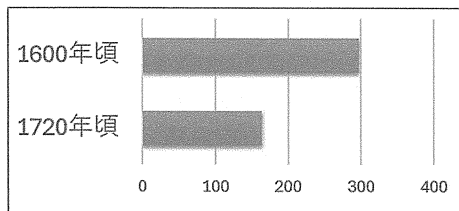
問15 江戸時代の農地面積（面積の単位は町歩）の推移を表したグラフとして正しいものを次のア～エから1つ選び、解答欄の記号を○で囲め。



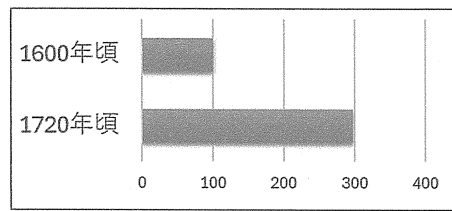
ア



イ



ウ



エ

問16 18世紀は世界において「革命の時代」とも呼べる時代であった。歴史上の革命について述べた文として誤っているものを次のア～エから1つ選び、解答欄の記号を○で囲め。

ア：イギリスでは名誉革命の後に国王によって権利章典が定められた。

イ：フランスでは国王が貴族に対して新たな課税をしようとしたことから革命が起こった。

ウ：中国では三民主義を掲げる孫文によって、中華民国の建国が宣言された。

エ：ロシアでは第一次世界大戦の末期にスターリンらが皇帝を退位に追いやった。

問17 第二次世界大戦後、日本はそれまで持っていた植民地を失った。第二次世界大戦までに日本が統治していた国や地域について述べた文として正しいものを次のア～エから1つ選び、解答欄の記号を○で囲め。

ア：日英同盟結成時、台湾は日本の植民地であった。

イ：義和団事件発生時、朝鮮半島は日本の植民地であった。

ウ：第一次世界大戦勃発時、中国の山東半島は日本の統治下にあった。

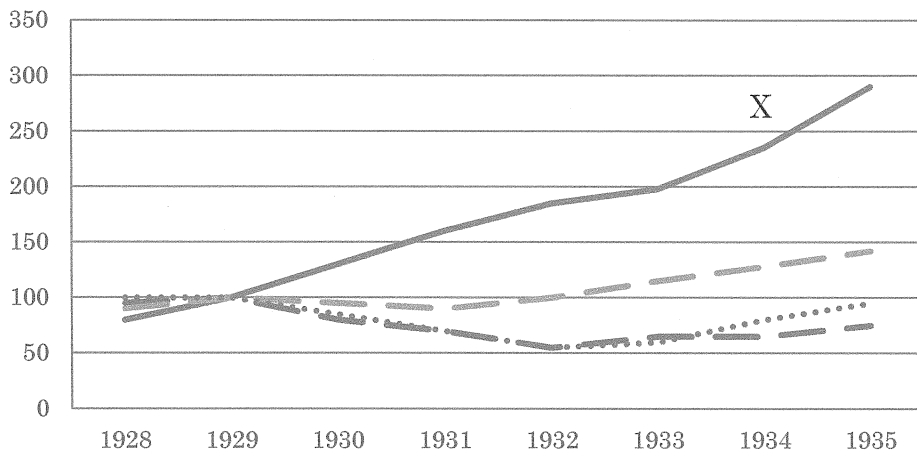
エ：世界恐慌発生時、満州国は日本の統治下にあった。

問18 連合国による占領統治から日本が独立を達成した時の首相は誰か。次のア～エから1つ選び、解答欄の記号を○で囲め。

ア：池田勇人    イ：吉田茂    ウ：加藤高明    エ：鳩山一郎

問19 昭和初期に発生した世界恐慌は、世界に深刻な経済不況を及ぼした。次のグラフは世界恐慌期の各国の工業生産の推移を表している。Xの国はどこか。下のア～エから選び、解答欄の記号を○で囲め。

世界恐慌期の各国の工業生産の推移  
(1929年の値を100とした指数)



ア：日本    イ：アメリカ合衆国    ウ：ソ連    エ：ドイツ

問20 1980年代、地価の上昇とともに土地が投機対象になり、土地の価格は実態とかけ離れた異常な価格となっていた。このときの景気を何というか。

3 次の会話文を読んで、あとの問いに答えよ。

てづか：2026年はどんな年になるのだろうか。

いずみ：今年は、(a)日本国憲法の公布から80年だね。この間、日本国憲法は改正されていないけど、改正すべきという声も耳にするよね。

てづか：(b)改正の手続きについては、第一次安倍内閣のときに国民投票法が定められたよ。

いずみ：時代にあわせて、憲法は改正する必要はあるのかなあ。

てづか：そこは議論が必要だよな。(c)憲法の条文にはない内容でも基本的人権として認められているものもあるしね。

いずみ：確かに。

てづか：昨年は初めて女性の(d)内閣総理大臣が誕生した年でもあったね。

いずみ：そういえば今年は(e)男女雇用機会均等法が施行されて40年になるよ。

てづか：この40年で、女性の社会的地位は向上したのかなあ。

いずみ：テレビCMなどでは、食器洗い洗剤や洗濯洗剤に男性タレントを起用し「家事＝女性」という認識をなくすように意識している感じもするけど。

てづか：しかし、諸外国に比べ日本の国会議員に占める女性の割合が低いなど、女性の社会進出については、まだまだ取り組みが必要なんじゃないかな。

いずみ：女性のリーダーは世界でも誕生してるけど、やはり印象に残っているのは、イギリスのサッチャー首相かなあ。

てづか：イギリスの財政難解消のために、(f)公共事業の削減と民営化(規制緩和)を進めた人だね。

いずみ：それに対して、アメリカ合衆国では女性が大統領候補にはあがるけど、まだ誕生していないね。

てづか：前回の大統領選挙でもカマラ＝ハリス、ドナルド＝トランプの両候補が戦って、トランプ候補が当選したよね。

いずみ：(g)アメリカでは今年の11月に中間選挙が実施されるから、トランプ大統領の政権運営が評価される年でもあるね。

てづか：今年は(h)アメリカ独立宣言が発表されて250年の節目の年なんだ。独立宣言でうたわれた精神は、現在のアメリカにどう反映されているのだろうか。

いずみ：選挙でいうと、日本でも今年は(i)衆議院議員選挙で(j)小選挙区比例代表並立制が採用されて、ちょうど30年になるんだね。

てづか：復活当選のことなど、選挙のあとには話題になったりするね。

いずみ：やはり、制度を制定したあとは見直しをすることって大事だよな。

てづか：そうだね。去年は、(k)米価の高騰などもあり人々の生活は落ち着かなかったけれど、今年はいい年になればいいなあ。

問1 下線部(a)について、日本国憲法の内容として誤っているものを次のア～エから1つ選び、解答欄の記号を○で囲め。

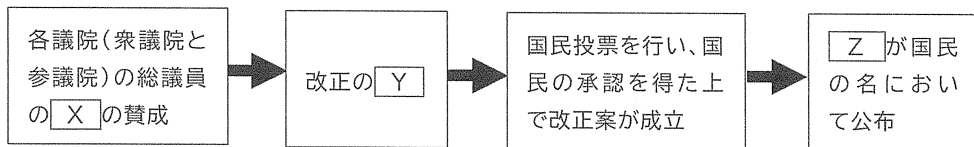
ア：主権者は国民であり、天皇は日本国と日本国民統合の象徴である。

イ：基本的人権は永久の権利として法律の範囲内で国民に認められる。

ウ：子どもに普通教育を受けさせる義務、勤労の義務、納税の義務を定めている。

エ：戦争を放棄し、戦力の不保持とともに、交戦権を否認している。

問2 下線部(b)について、次の図は憲法改正の手続きを示している。空欄 X・Y・Z にあてはまる語句の組み合わせとして正しいものを下のア～カから1つ選び、解答欄の記号を○で囲め。



ア：X…過半数

Y…発案

Z…天皇

イ：X…3分の2以上

Y…発案

Z…内閣総理大臣

ウ：X…過半数

Y…発議

Z…天皇

エ：X…3分の2以上

Y…発議

Z…内閣総理大臣

オ：X…過半数

Y…発案

Z…内閣総理大臣

カ：X…3分の2以上

Y…発議

Z…天皇

問3 下線部(c)について、科学技術の進展や社会の変化にともなって新しい人権が主張されるようになった。新しい人権について述べた文として正しいものを次のア～エから1つ選び、解答欄の記号を○で囲め。

ア：プライバシーの権利は自己の情報を自分で管理する自己情報コントロール権をふくんでおり、個人情報を保護するために特定秘密保護法が制定された。

イ：自己決定権に基づき、患者が治療法などを選択できるインフォームドコンセントが患者の権利として主張されるようになった。

ウ：環境権には日照権や眺望権、嫌煙権などが認められており、法務省の人権擁護局や各都道府県の法務局が監視にあたっている。

エ：知る権利を保障するため、SNS（ソーシャル・ネットワーク・サービス）では国民の政治参加の際に必要な正しい情報のみが提供されるようになり、未成年もSNSを使用した選挙運動が可能になった。

問4 下線部(d)について、次の問いに答えよ。

① 内閣総理大臣について述べた文として誤っているものを次のア～エから1つ選び、解答欄の記号を○で囲め。

ア：自らが議長となり閣議を開く。

イ：最高裁判所の裁判官を指名する。

ウ：内閣官房長官や防衛大臣を任命する。

エ：内閣を代表して、議案を国会に提出する。

② 自衛隊の最高指揮権は文民である内閣総理大臣がもつこととされており、自衛隊を統括する防衛大臣も文民がになう。このように、自衛隊が国会と政府の民主的な統制のもとに置かれている原則を何というか。カタカナで答えよ。

問5 1979年に国際連合で、ある条約が採択されたことを受け、日本で下線部(e)の法律が制定された。この条約を何というか。漢字で答えよ。

問6 下線部(f)について、次の問いに答えよ。

① 下線部(f)のような動きをすすめ、国家の働きを治安維持や国防などの最小限に限定しようとする考え方を何というか。5字で答えよ。

② 日本における規制緩和の例として**適当でないもの**を次のア～エから1つ選び、解答欄の記号を○で囲め。

ア：住民からの要求を受け、税金の使い方や行政の不正などを調査・監視するオンブズパーソンの導入。

イ：一般市民が住宅を活用して、旅行者など宿泊場所を提供する民泊の導入。

ウ：従来の航空路線に加え、低価格のLCC（ローコストキャリア）路線の導入。

エ：一般市民が自家用車の空席を利用して、他の人を目的地まで運ぶライドシェアリングの導入。

問7 下線部(g)について、アメリカ合衆国では下院の全議席と上院の約3分の1の議席が同時に改選される。この選挙において二大政党制のアメリカでは、大統領の政権運営に批判的な意見が多いと大統領の所属政党の議席が減る傾向にある。現在のアメリカの二大政党として適当なものを次のア～カから2つ選び、解答欄の記号を○で囲め。

ア：民主党	イ：労働党	ウ：社会党
エ：共和党	オ：自由党	カ：保守党

問 8 下線部(h)について、次の資料の二重下線部の考え方に影響を与えた思想家とその著書の組み合わせとして正しいものを下のア～カから 1 つ選び、解答欄の記号を○で囲め。

我々は次のことが自明の真理であると信ずる。全ての人は平等につくられ、神によって、一定のゆずることのできない権利をあたえられていること。その中には生命、自由、そして幸福の追求がふくまれていること。これらの権利を確保するために、人類の間に政府がつくられ、その正当な権力は被支配者の同意に基づかねばならないこと。もしどんなかたちの政府であってもこれらの目的を破壊するものになった場合には、その政府を改革しあるいは廃止して人民の安全と幸福をもたらすに最も適当と思われる原理に基づき、そのようなかたちで権力を形づくる新しい政府を設けることが人民の権利であること。以上である。

ア：ルソー…『法の精神』

イ：ルソー…『統治二論』

ウ：モンテスキュー…『法の精神』

エ：モンテスキュー…『統治二論』

オ：ロック…『法の精神』

カ：ロック…『統治二論』

問 9 下線部(i)について、次の問いに答えよ。

① 衆議院と参議院の違いについて述べた文として誤っているものを次のア～エから 1 つ選び、解答欄の記号を○で囲め。

ア：衆議院の任期は 4 年で、参議院の任期は 6 年である。

イ：衆議院、参議院とも議長に女性が就任したことがある。

ウ：衆議院の被選挙権は満 25 歳以上だが、参議院の被選挙権は満 30 歳以上である。

エ：衆議院が解散している間に緊急事態が起きた場合、参議院のみの臨時国会が開催される。

② 衆議院の優越について述べた文として正しいものを次のア～エから 1 つ選び、解答欄の記号を○で囲め。

ア：法律案は必ず先に衆議院へ提出しなければならない。

イ：法律案について、両議院が異なった議決をしたとき、衆議院で総議員の 3 分の 2 以上の賛成で、再可決されれば、法律は成立する。

ウ：衆議院のみが、内閣に対して不信任決議を行うことができる。

エ：予算の議決についてのみ、両議院が異なった議決をした場合は両議院の意見が一致するまで、何度も議決をやり直す。

問10 下線部(j)について、次の問いに答えよ。

① 選挙権や選挙区制、選挙運動などについて定めた法律を何というか。漢字で答えよ。

② 2022年に改正された①の法律では、衆議院の小選挙区での「10増10減」（都県の議席配分の増減）が反映され、都市部で計10議席増、地方で計10議席減となった。なぜこのように議席の配分が改定されたのか、その理由を簡潔に説明せよ。

問11 下線部(k)について、次の問いに答えよ。

① 米の流通には、農業協同組合が関わっていることが多く、農業協同組合のような協同組合や株式会社などは私企業に分類される。協同組合と株式会社との違いについて述べた次の文の空欄にあてはまる語句を漢字で答えよ。ただし、には同じ語句が入る。

株式会社の目的はの追求であるが、協同組合の目的はを追求せず、組合員の生産と生活を向上させることである。

② 株式会社について説明した文として誤っているものを次のア～エから1つ選び、解答欄の記号を○で囲め。

ア：株式は証券会社などを通じて自由に売買することができる。

イ：株主は出資金だけでなく会社の負債などもすべて負う義務がある。

ウ：会社の基本方針や取締役の選任などは株主総会で決定される。

エ：株主総会の議決は多数決で行われ、株主は1株につき1票の議決権が認められている。

③ 企業の社会的責任（CSR）の例として**適当でないもの**を次のア～エから 1 つ選び、解答欄の記号を○で囲め。

ア：包装が破れたりして販売できない食品や、生産しすぎて余った食品を地域のフードバンクに寄付する。

イ：限りある資源を次世代へ引き継ぐために、全国各地で植林活動を実施する。

ウ：月に 1 度、金曜日は 15 時退社を推奨するなど、労働者が働きやすい職場環境をつくる。

エ：製品の欠陥によって消費者が被害を受けた場合、企業に対して損害賠償を求めることができる。

以下、余白

1	問1	A	1 2 3 4 5				
			6 7 8 9 10				
		B	1 2 3 4 5				
			6 7 8 9 10				
		C	1 2 3 4 5				
			6 7 8 9 10				
	問2	ア イ ウ エ					
	問3	①	ア イ ウ エ				
		②					
	問4	ア イ ウ エ オ カ					
	問5	C	<small>国名</small>				
			あ い う え お				
問5	E	<small>国名</small>					
			あ い う え お				
問6							
問7	ア イ ウ エ オ カ						
問8	ア イ ウ エ						
問9	ア イ ウ エ						
問10	ア イ ウ エ オ カ						
問11	①	a	ア イ				
		b	ウ エ				
	②						
③						cm	

2	問1	ア イ ウ エ				
	問2	ア イ ウ エ				
	問3	ア イ ウ エ				
	問4					
	問5	ア イ ウ エ				
	問6					
	問7					
	問8					
	問9	ア イ ウ エ				
	問10					
	問11					
	問12	ア イ ウ エ				
	問13	ア イ ウ エ				
	問14	ア イ ウ エ				
	問15	ア イ ウ エ				
	問16	ア イ ウ エ				
	問17	ア イ ウ エ				
	問18	ア イ ウ エ				
	問19	ア イ ウ エ				
	問20					

3	問1	ア イ ウ エ				
	問2	ア イ ウ エ オ カ				
	問3	ア イ ウ エ				
	問4	①	ア イ ウ エ			
		②				
	問5	条約				
	問6	①				
		②	ア イ ウ エ			
	問7	ア イ ウ エ オ カ				
	問8	ア イ ウ エ オ カ				
	問9	①	ア イ ウ エ			
②		ア イ ウ エ				
問10	①	法				
	②					
	③					
問11	①					
	②	ア イ ウ エ				
	③	ア イ ウ エ				

合計	
----	--